



10より
おおきいかず 10
● 10といくつかをたしたしき



日にち： 月 日

名まえ _____

1 たしざんをしましょう。

① $10 + 5 = \square$

④ $10 + 1 = \square$

② $10 + 3 = \square$

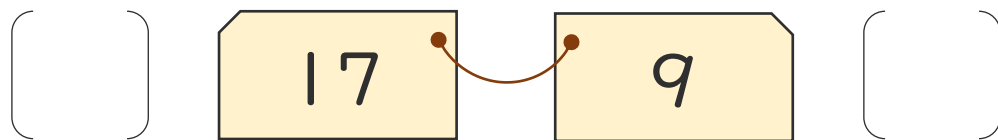
⑤ $10 + 9 = \square$

③ $10 + 8 = \square$

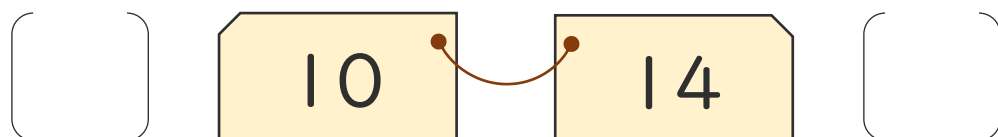
⑥ $10 + 6 = \square$

2 おおきいほうに○をつけましょう。

①



②





10より
おおきいかず 10
● 10といくつかをたしたしき



日にち： 月 日

名まえ _____

1 たしざんをしましょう。

① $10 + 5 = 15$

④ $10 + 1 = 11$

② $10 + 3 = 13$

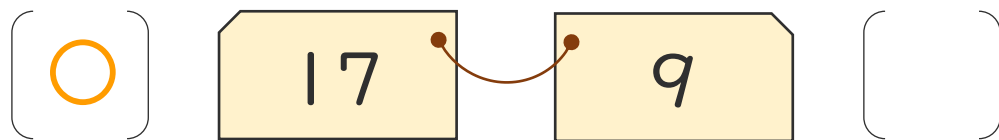
⑤ $10 + 9 = 19$

③ $10 + 8 = 18$

⑥ $10 + 6 = 16$

2 おおきいほうに○をつけましょう。

①



②

