



おおきいかず 7

3つおおきいかずを、
かずのせんでしらべよう

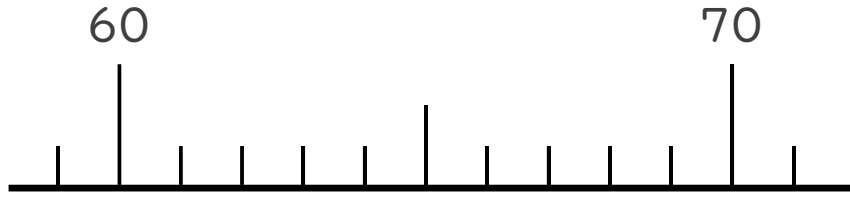


日にち： 月 日

名まえ _____

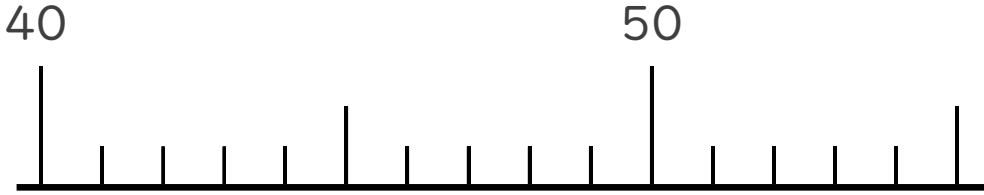
1 かずのせんをつかってしらべましょう。

① 64より 3ちいさいかず



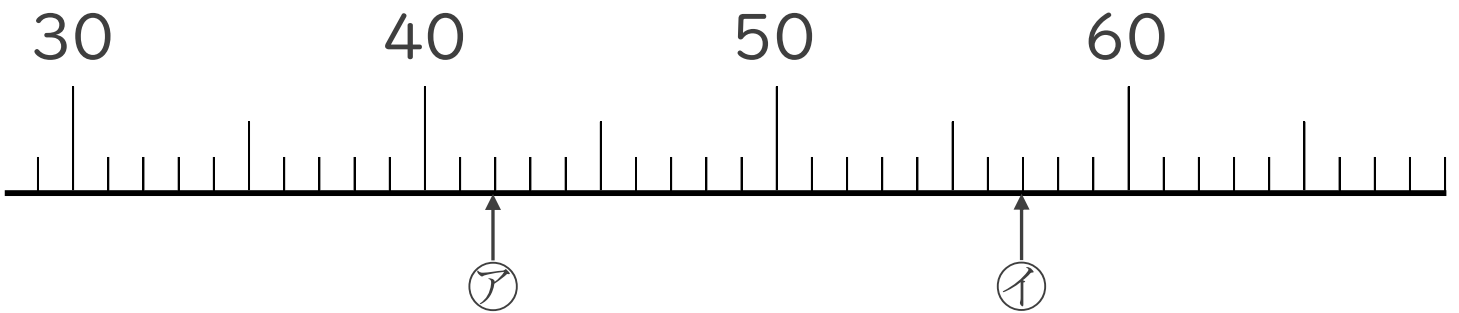
()

② 48より 6おおきいかず



()

2 かずのせんをみて、ア、イのめもりがあらわすかずを
いみましょう。



()

()



おおきいかず 7

3つおおきいかずを、
かずのせんでしらべよう

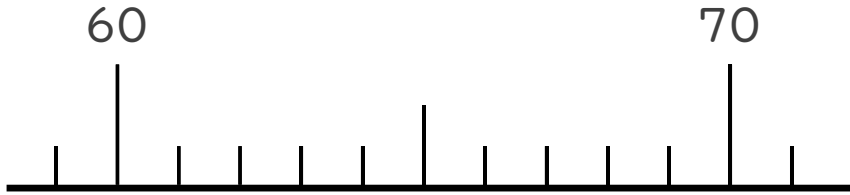


日にち： 月 日

名まえ _____

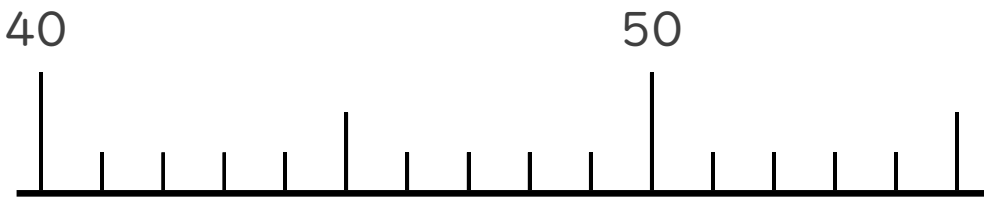
1 かずのせんをつかってしらべましょう。

① 64より 3ちいさいかず



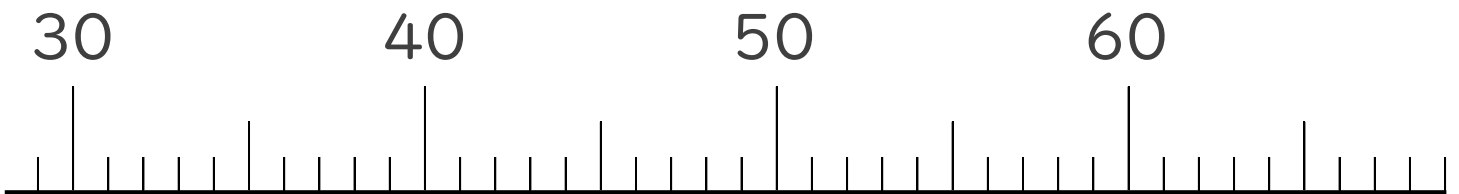
(61)

② 48より 6おおきいかず



(54)

2 かずのせんをみて、㊦、㊧のめもりがあらわすかずを
いみましょう。



㊦

(42)

㊧

(57)

