



# あわせていくつ？

● いろいろなかずのたしざん

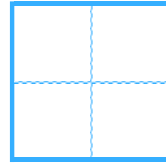


日にち：            月            日

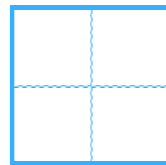
名まえ \_\_\_\_\_

・ たしざんをしましょう。

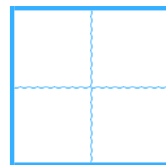
①  $5 + 1 =$



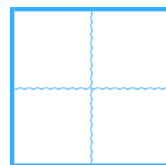
②  $2 + 6 =$



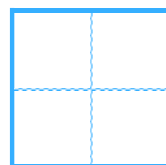
③  $6 + 4 =$



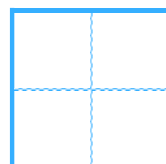
④  $3 + 5 =$



⑤  $1 + 2 =$



⑥  $4 + 2 =$





あわせていくつ？

● いろいろなかずのたしざん



日にち：            月            日

名まえ \_\_\_\_\_

・ たしざんをしましょう。

①  $5 + 1 =$

6

②  $2 + 6 =$

8

③  $6 + 4 =$

10

④  $3 + 5 =$

8

⑤  $1 + 2 =$

3

⑥  $4 + 2 =$

6

