

たしざんと
ひきざん2

● うしろはなんにん?
(ならびじゅん・きゅうほ)

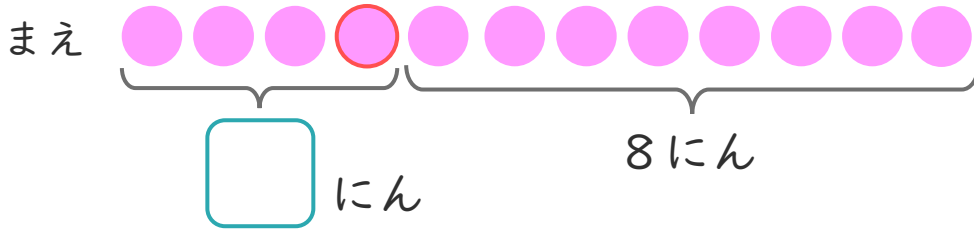


日にち： 月 日

名まえ _____

1 しほさんは、まえから 4ばんめにいます。
しほさんの うしろに 8にんいます。

① にあうかずをかきましょう。



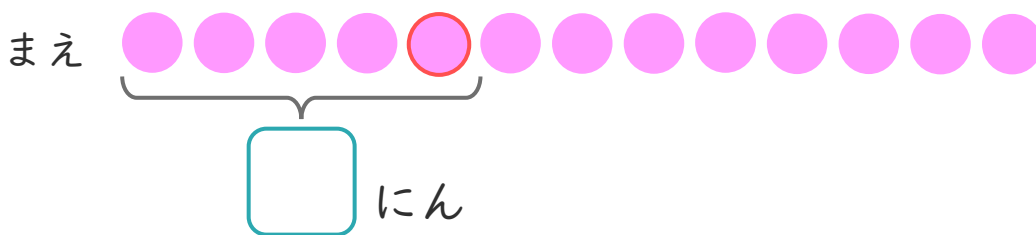
② みんなで なんにん いますか。

しき：

こたえ {

2 おかしやさんに 13にん ならんでいます。
あなたさんはまえから 5ばんめにいます。

① にあうかずをかきましょう。




② あなたさんの うしろには なんにん いますか。

しき：

こたえ {





たしざんと
ひきざん 2

● うしろはなんにん?
(ならびじゆん・きゆうほ)

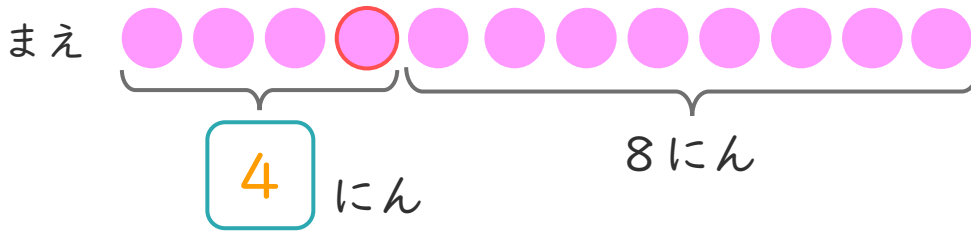


日にち： 月 日

名まえ _____

1 しほさんは、まえから 4ばんめにいます。
しほさんの うしろに 8にんいます。

① にあうかずをかきましょう。



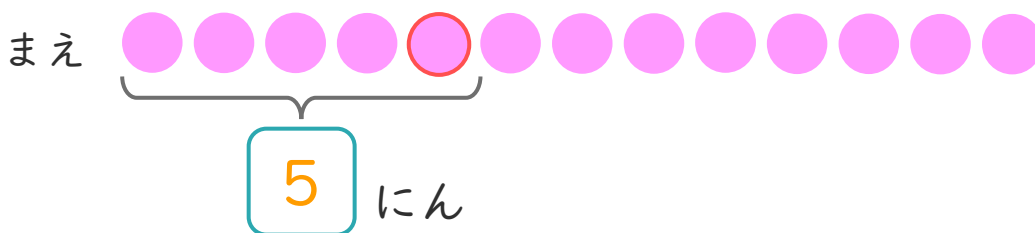
② みんなでなんにんいますか。

しき： $4 + 8 = 12$

こたえ 12 にん

2 おかしやさんに 13にん ならんでいます。
かなたさんはまえから 5ばんめにいます。

① にあうかずをかきましょう。



② かなたさんの うしろにはなんにんいますか。

しき： $13 - 5 = 8$

こたえ 8 にん

