



くりあがりのある
たしざん 9

◎ ぶんしょう もんだい



日にち： 月 日

名まえ _____

- 1 すずめが 8 わいます。8 わ きました。
すずめは、ぜんぶで なんわ になりましたか。

しき：


こたえ

- 2 かだんに あかい はなが 7 ほん あります。しろい はなが
6 ほん あります。はなは、ぜんぶで なんほん ありますか。


しき：

こたえ

- 3 いちごは あわせて なんこ ですか。しきをかきましょう。



5 こ



7 こ

しき：

$$\square + \square = \square$$




くりあがりのある
たしざん 9

● ぶんしょう もんだい



日にち： 月 日

名まえ _____

- 1 すずめが 8わいます。8わ きました。
すずめは、ぜんぶで なんわになりましたか。

しき： $8 + 8 = 16$


こたえ (16 わ)

- 2 かだんに あかい はなが 7ほん あります。しろい はなが
6ほん あります。はなは、ぜんぶで なんほん ありますか。


しき： $7 + 6 = 13$

こたえ (13 ほん)

- 3 いちごは あわせて なんこ ですか。しきをかきましょう。



5 こ



7 こ

しき： $5 + 7 = 12$