



くりさがりのある
ひきざん 6

● くりさがりのけいさん
(4や3をひく)



日にち： 月 日

名まえ _____

・ けいさんをしましょう。

① $12 - 3 = \square$

⑤ $11 - 4 = \square$

② $13 - 4 = \square$

⑥ $12 - 5 = \square$

③ $14 - 6 = \square$

⑦ $11 - 3 = \square$

④ $12 - 4 = \square$

⑧ $12 - 6 = \square$



くりさがりのある
ひきざん 6

● くりさがりのけいさん
(4や3をひく)

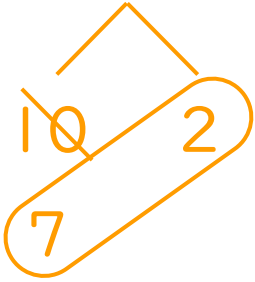


日にち： 月 日

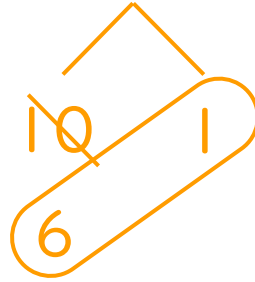
名まえ _____

・ けいさんをしましょう。

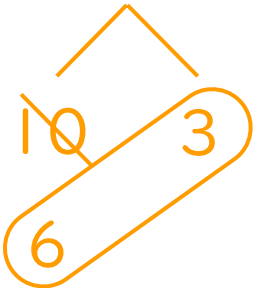
① $12 - 3 = 9$



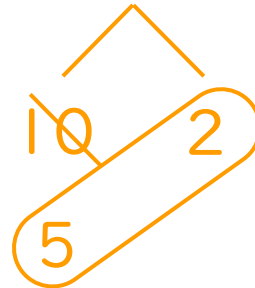
⑤ $11 - 4 = 7$



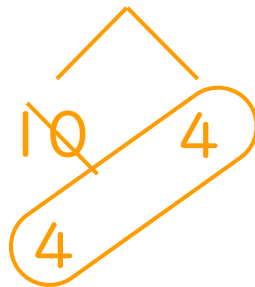
② $13 - 4 = 9$



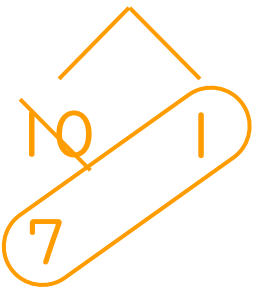
⑥ $12 - 5 = 7$



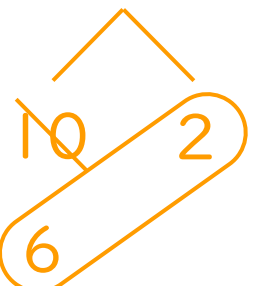
③ $14 - 6 = 8$



⑦ $11 - 3 = 8$



④ $12 - 4 = 8$



⑧ $12 - 6 = 6$

