



くりさがりのある
ひきざん 5

● くりさがりのけいさん
(6や5をひく)



日にち： 月 日

名まえ _____

・ けいさんをしましょう。

① $13 - 5 = \square$

⑤ $15 - 6 = \square$

② $14 - 7 = \square$

⑥ $13 - 7 = \square$

③ $12 - 6 = \square$

⑦ $11 - 5 = \square$

④ $12 - 5 = \square$

⑧ $11 - 6 = \square$



くりさがりのある
ひきざん 5

● くりさがりのけいさん
(6や5をひく)

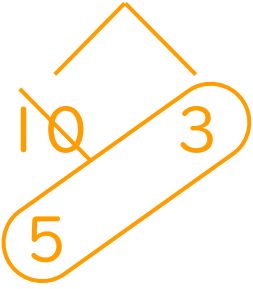


日にち： 月 日

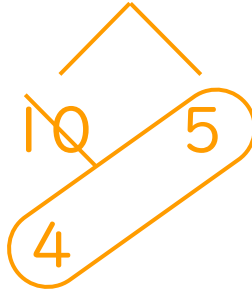
名まえ _____

・ けいさんをしましょう。

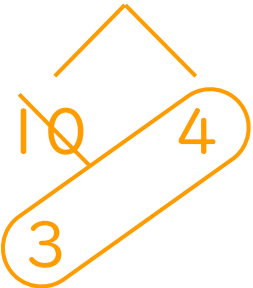
① $13 - 5 = 8$



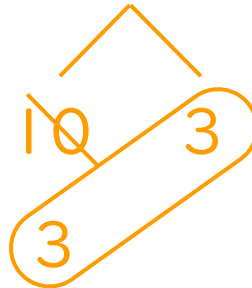
⑤ $15 - 6 = 9$



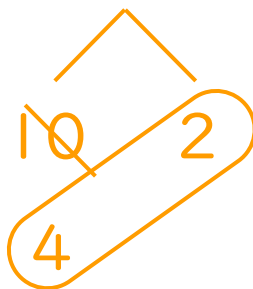
② $14 - 7 = 7$



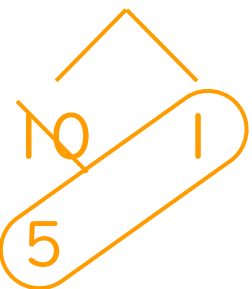
⑥ $13 - 7 = 6$



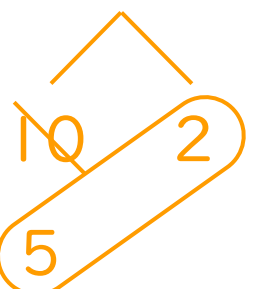
③ $12 - 6 = 6$



⑦ $11 - 5 = 6$



④ $12 - 5 = 7$



⑧ $11 - 6 = 5$

