



たしざんと
ひきざん 6

くりはなんこ?
(きゅうしょう)



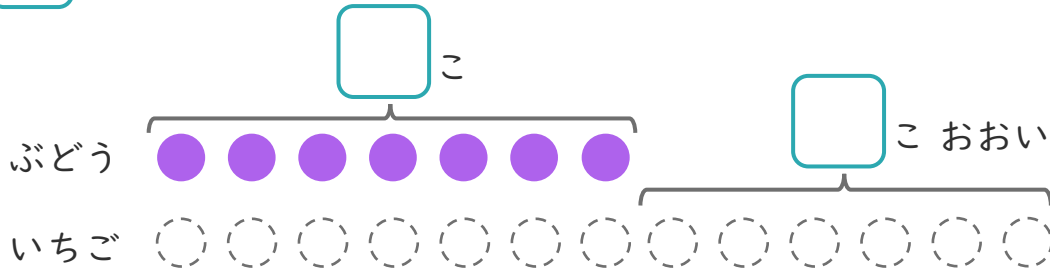
日にち： 月 日

名まえ _____

1 ぶどうのあめが7こあります。

いちごのあめは、ぶどうのあめより6こおいそです。

① にあうかずをかきましょう。



にいろをぬりましょう。

② いちごのあめはなんこありますか。

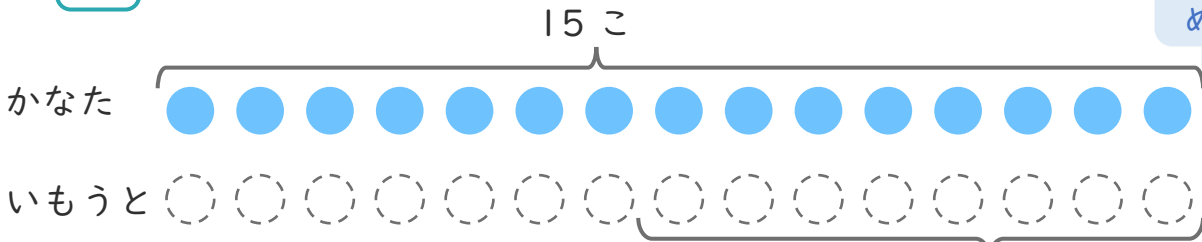
しき：

こたえ { }

2 かなたさんはくりを15こひろいました。

いもうとは、かなたさんより8こすくなかったそうです。

① にあうかずをかきましょう。



にいろをぬりましょう。

② いもうとは、なんこひろいましたか。

しき：

こたえ { }





たしざんと
ひきざん 6

くりはなんこ?
(きゅうしょう)



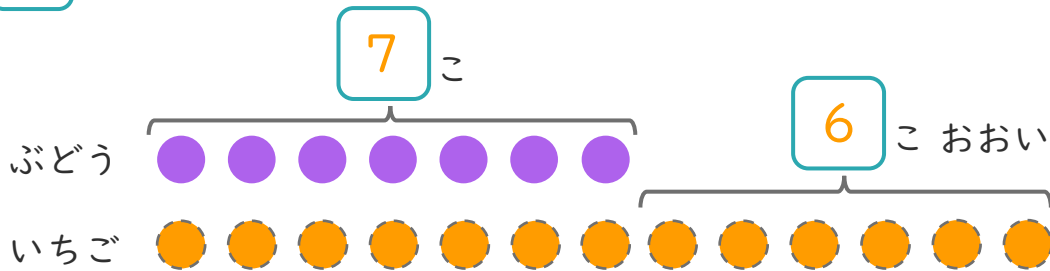
日にち： 月 日

名まえ _____

1 ぶどうのあめが7こあります。

いちごのあめは、ぶどうのあめより6こおいそです。

① □にあうかずをかきましょう。



にいろをぬりましょう。

② いちごのあめはなんこありますか。

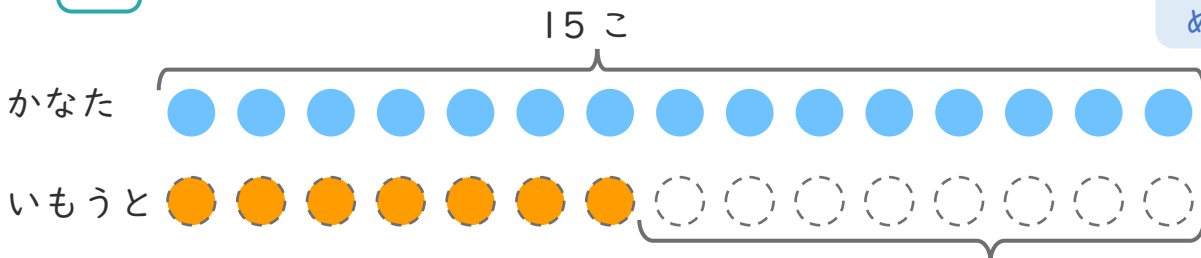
しき： $7 + 6 = 13$

こたえ { 13 こ }

2 かなたさんはくりを15こひろいました。

いもうとは、かなたさんより8こすくなかったそです。

① □にあうかずをかきましょう。



にいろをぬりましょう。

② いもうとは、なんこひろいましたか。

しき： $15 - 8 = 7$

こたえ { 7 こ }

