



たしざんと  
ひきざん 4

● すわれないひとはなんにん?  
(こすうとにんずう)

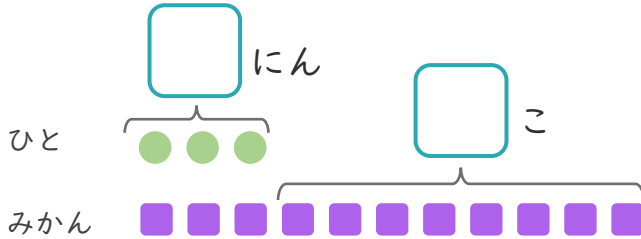


日にち： 月 日

名まえ \_\_\_\_\_

1 3にんにみかんを1こずつわけました。  
みかんはあと8こあります。

① □にあうかずをかきましょう。



●と■をせんで  
むすびましょう。

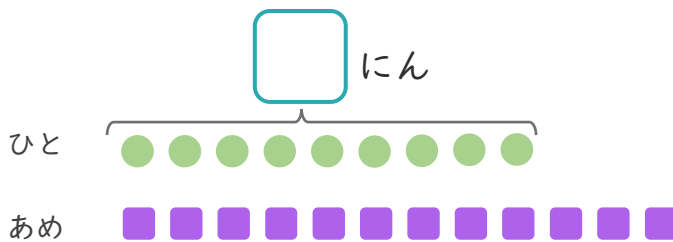
② みかんは、ぜんぶでなんこありますか。

しき：

こたえ {

2 あめが12こあります。  
9にんに1こずつわけました。

① □にあうかずをかきましょう。



●と■をせんで  
むすびましょう。

② あめは、なんこのこりますか。

しき：

こたえ {





たしざんと  
ひきざん 4

● すわれないひとはなんにん?  
(こすうとにんずう)

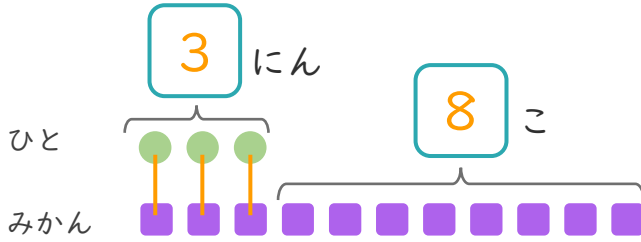


日にち： 月 日

名まえ \_\_\_\_\_

1 3にんにみかんを1こずつわけました。  
みかんはあと8こあります。

① □ にあうかずをかきましょう。



● と ■ をせんで  
むすびましょう。

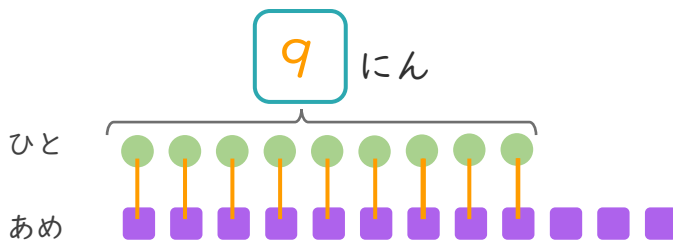
② みかんは、ぜんぶでなんこありますか。

しき： $3 + 8 = 11$

こたえ { 11 こ }

2 あめが12こあります。  
9にんに1こずつわけました。

① □ にあうかずをかきましょう。



● と ■ をせんで  
むすびましょう。

② あめは、なんこのこりますか。

しき： $12 - 9 = 3$

こたえ { 3 こ }

