



たしざんと
ひきざん 7

● まえとうしろのにんずう
ぜんぶでなんにん？



日にち： 月 日

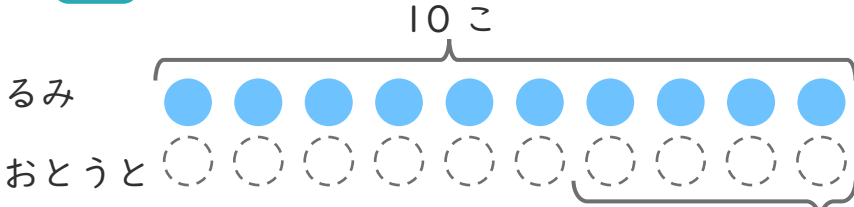
名まえ _____

1

るみさんはくりを 10こ ひろいました。
おとうとは、るみさんより 4こ すくなかった そうです。

① にあうかずをかきましょう。

○にいろを
ぬりましょう。



こすくない

② おとうとは、なんこ ひろいましたか。

しき：

こたえ {

2

こどもがならんでいます。なつさんのまえに 6にん、
うしろに 5にん います。

① にあうかずをかきましょう。



② ぜんぶでなんにん ならんでいますか。

しき：

こたえ {





たしざんと
ひきざん 7

● まえとうしろのにんずう
ぜんぶでなんにん？



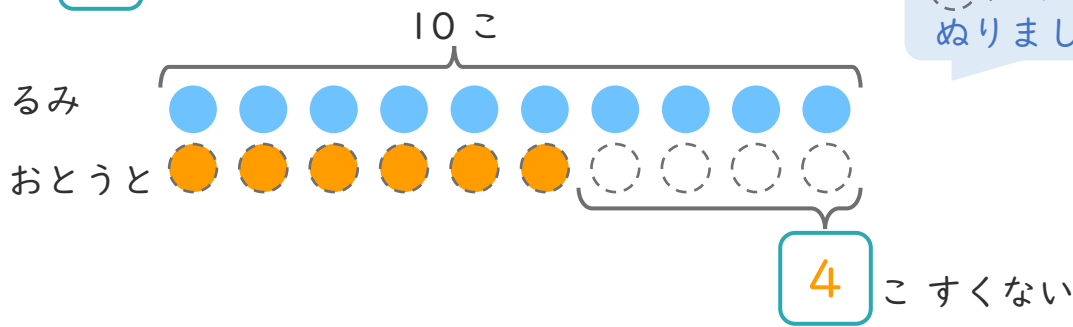
日にち： 月 日

名まえ _____

1 るみさんはくりを 10こ ひろいました。
おとうとは、るみさんより 4こ すくなかった そうです。

① □ にあうかずをかきましょう。

○ にいろを
ぬりましょう。



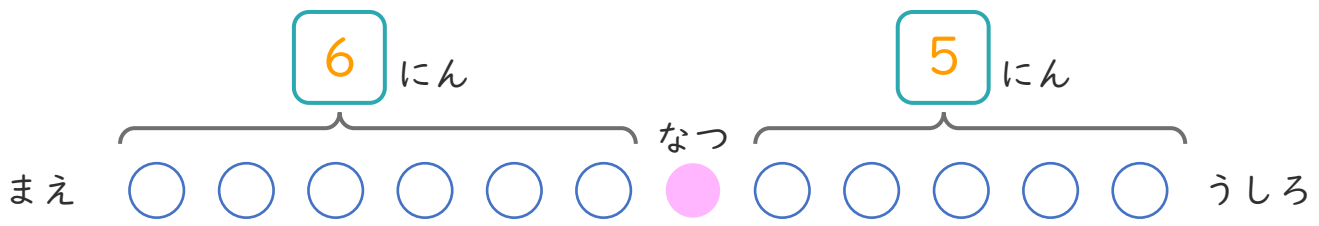
② おとうとは、なんこ ひろいましたか。

しき： $10 - 4 = 6$

こたえ { 6 こ }

2 こどもがならんでいます。なつさんのまえに 6にん、
うしろに 5にん います。

① □ にあうかずをかきましょう。



② ぜんぶでなんにん ならんでいますか。

しき： $6 + 1 + 5 = 12$

こたえ { 12 にん }