



たしざんと  
ひきざん 6

● どんぐりはなんこ？  
(きゅうしょう)



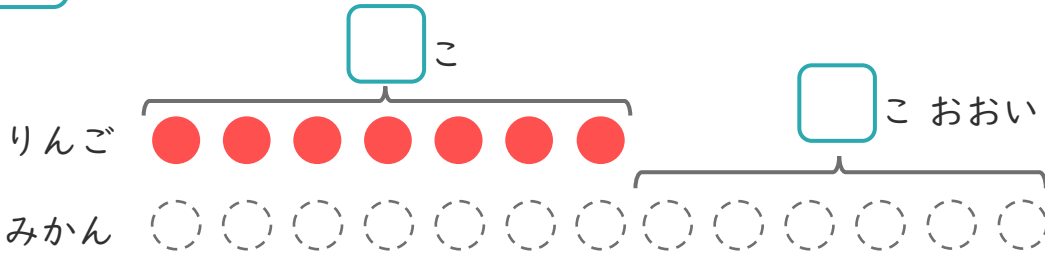
日にち： 月 日

名まえ \_\_\_\_\_

1 りんごの あめが 7 こ あります。

みかんの あめは、りんごの あめより 6 こ おおいそうです。

①  に あう かず を かき まし ょう。



○ に いろ を  
ぬ り まし ょう。

② みかんの あめは なん こ あり ます か。

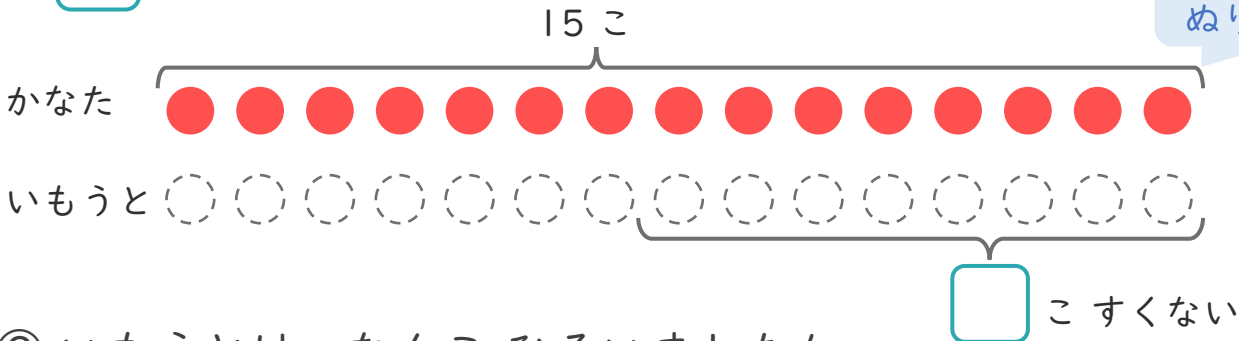
しき：

こたえ {

2 かなたさんは どんぐりを 15 こ ひろい ました。

いもうとは、かなたさんより 8 こ すく なか った そ う で す。

①  に あう かず を かき まし ょう。



○ に いろ を  
ぬ り まし ょう。

② いもうとは、なん こ ひろい ました か。

しき：

こたえ {





たしざんと  
ひきざん 6

● どんぐりはなんこ?  
(きゅうしょう)



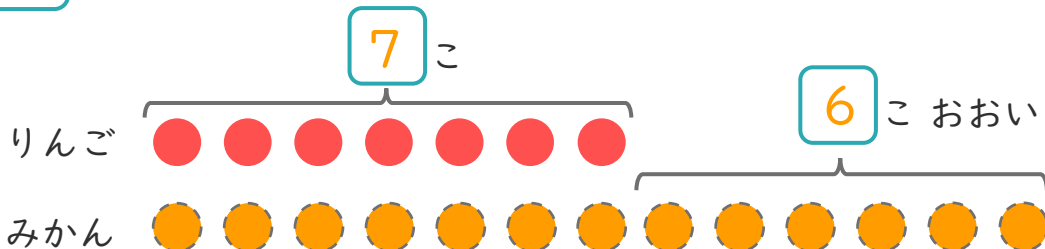
日にち： 月 日

名まえ \_\_\_\_\_

1

りんごのあめが7こあります。  
みかんのあめは、りんごのあめより6こおいそです。

①  にあうかずをかきましょう。



○にいろをぬりましょう。

② みかんのあめはなんこありますか。

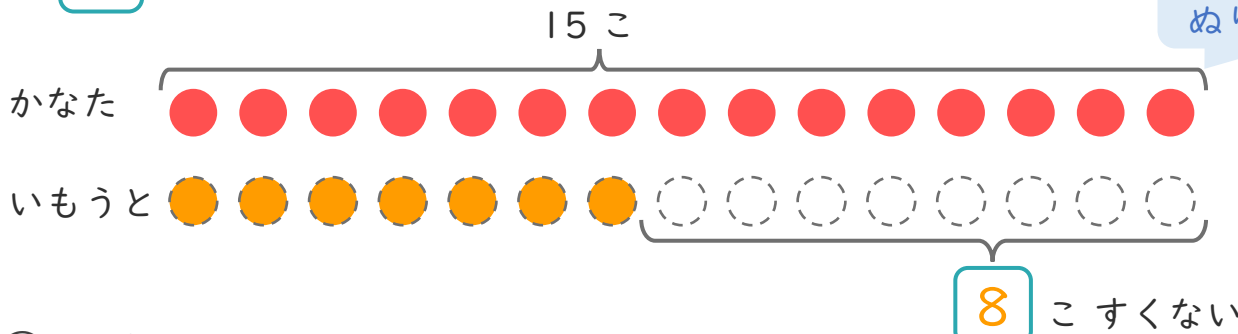
しき： $7 + 6 = 13$

こたえ  $\left( 13 \text{ こ} \right)$

2

かなたさんはどんぐりを15こひろいました。  
いもうとは、かなたさんより8こすくなかったそうです。

①  にあうかずをかきましょう。



○にいろをぬりましょう。

② いもうとは、なんこひろいましたか。

しき： $15 - 8 = 7$

こたえ  $\left( 7 \text{ こ} \right)$

