



のこりはいくつ 8

ひきざんのけいさん

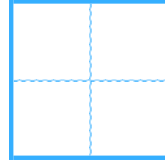


日にち： 月 日

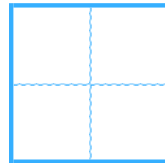
名まえ \_\_\_\_\_

・ ひきざんをしましょう。

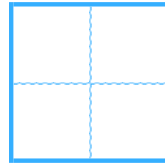
①  $9 - 5 =$



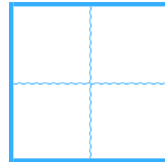
②  $6 - 4 =$



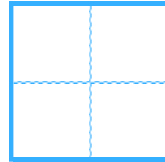
③  $4 - 2 =$



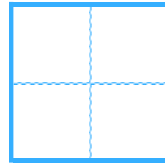
④  $7 - 1 =$



⑤  $8 - 7 =$



⑥  $5 - 3 =$





のこりはいくつ 8

● ひきざんの けいさん



日にち：            月            日

名まえ \_\_\_\_\_

・ ひきざんを しましょう。

①  $9 - 5 =$

4

②  $6 - 4 =$

2

③  $4 - 2 =$

2

④  $7 - 1 =$

6

⑤  $8 - 7 =$

1

⑥  $5 - 3 =$

2

