



くりあがりのある  
たしざん 9

◎ ぶんしょう もんだい



日にち：            月            日

名まえ \_\_\_\_\_

- 1 すずめが 8 わいます。8 わ きました。  
すずめは、ぜんぶで なんわ になりましたか。

しき：


こたえ

- 2 かだんに あかい はなが 7 ほん あります。しろい はなが  
6 ほん あります。はなは、ぜんぶで なんほん ありますか。


しき：

こたえ

- 3 いちごは あわせて なんこ ですか。しきをかきましょう。



5 こ



7 こ

しき：

 +  = 



くりあがりのある  
たしざん 9

● ぶんしょう もんだい



日にち：            月            日

名まえ \_\_\_\_\_

- 1 すずめが 8わいます。8わ きました。  
すずめは、ぜんぶで なんわになりましたか。

しき： $8 + 8 = 16$


こたえ  $\left( 16\text{わ} \right)$

- 2 かだんに あかい はなが 7ほん あります。しろい はなが  
6ほん あります。はなは、ぜんぶで なんほん ありますか。


しき： $7 + 6 = 13$

こたえ  $\left( 13\text{ほん} \right)$

- 3 いちごは あわせて なんこ ですか。しきをかきましょう。



5こ



7こ

しき： $5 + 7 = 12$

