



たしざんと
ひきざん 5

● みかんのあめはなんこ?
(きゅうだい)



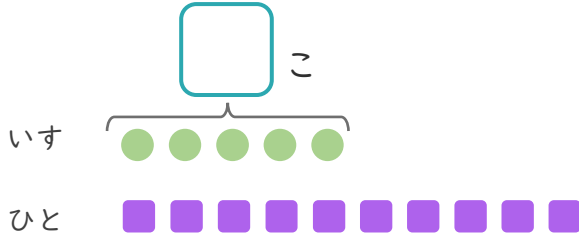
日にち： 月 日

名まえ _____

1 いすが 5 こ あります。

10 にんで いすと りゲーム を しました。

① に あう かず を かき まし ょう。



● と ■ を せんで
むすび まし ょう。

② いす に すわ れな い ひと は なん にん で す か。

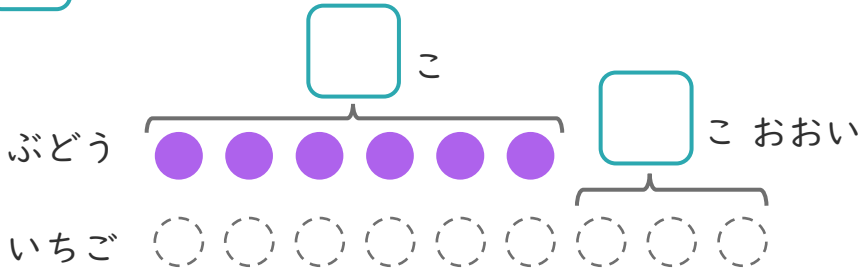
しき：

こたえ

2 ぶどうの あめ が 6 こ あります。

いちごの あめ は、ぶどうの あめ より 3 こ おお い そ う で す。

① に あう かず を かき まし ょう。



○ に いろ を
ぬり まし ょう。

② いちごの あめ は なん こ あり ま す か。

しき：

こたえ





たしざんと
ひきざん 5

● みかんのあめはなんこ？
(きゅうだい)



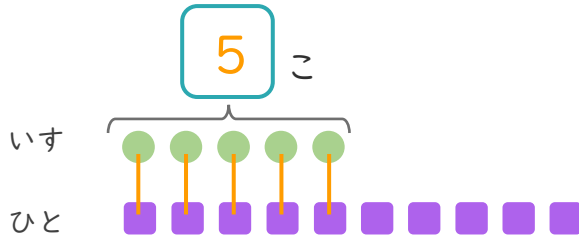
日にち： 月 日

名まえ _____

1 いすが 5 こ あります。

10 にんで いすと りゲーム を しました。

① に あう かず を かき まし ょう。



● と ■ を せんで
むすび まし ょう。

② いす に すわ れな い ひ と は なん にん で す か。

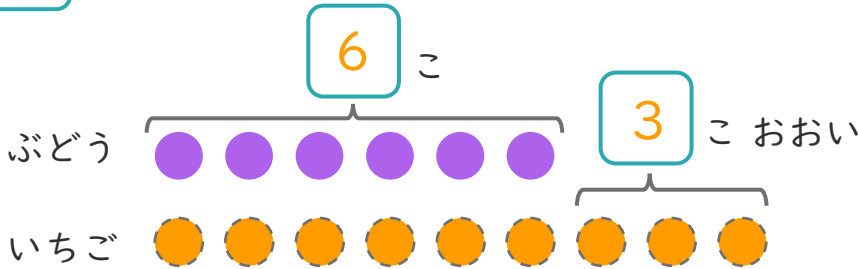
しき： $10 - 5 = 5$

こたえ { 5 にん }

2 ぶどう の あめ が 6 こ あり ます。

いちご の あめ は、ぶどう の あめ より 3 こ おお い そ う で す。

① に あう かず を かき まし ょう。



○ に いろ を
ぬり まし ょう。

② いちご の あめ は なん こ あり ます か。

しき： $6 + 3 = 9$

こたえ { 9 こ }

