



くりあがりのある
たしざん 8


● えとぶんしょうから
しきをつくろう




日にち： 月 日

名まえ _____

1 とりは あわせて なんわ ですか。しきをかきましょう。




4 わ




8 わ

しき： + =

2 とまとは あわせて なんこ ですか。しきをかきましょう。



9 こ



5 こ

しき： + =





くりあがりのある
たしざん 8


● えとぶんしょうから
しきをつくろう




日にち： 月 日

名まえ _____

1 とりは あわせて なんわ ですか。しきをかきましょう。




4 わ




8 わ

しき： $\boxed{4} + \boxed{8} = \boxed{12}$

2 とまとは あわせて なんこ ですか。しきをかきましょう。



9 こ



5 こ

しき： $\boxed{9} + \boxed{5} = \boxed{14}$

