



のこりはいくつ 9

◎ 10 から ひく ひきざん




日にち： 月 日

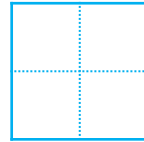
名まえ _____

・ ひきざんを しましょう。

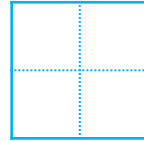
① $9 - 6 =$



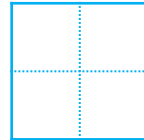
② $7 - 3 =$




③ $2 - 1 =$



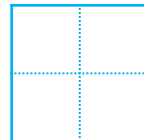
④ $5 - 3 =$



⑤ $10 - 2 =$



⑥ $6 - 5 =$





のこりはいくつ？

◎ 10からひくひきざん



日にち： 月 日

名まえ _____

・ ひきざんをしましょう。

① $9 - 6 =$

② $7 - 3 =$

③ $2 - 1 =$

④ $5 - 3 =$

⑤ $10 - 2 =$

⑥ $6 - 5 =$

