



10より  
おおきいかず 10  
● 10といくつかをたしたしき



日にち：        月        日

名まえ \_\_\_\_\_

1 たしざんをしましょう。

①  $10 + 1 = \square$

④  $10 + 8 = \square$

②  $10 + 3 = \square$

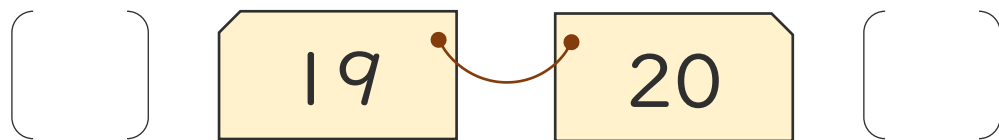
⑤  $10 + 7 = \square$

③  $10 + 4 = \square$

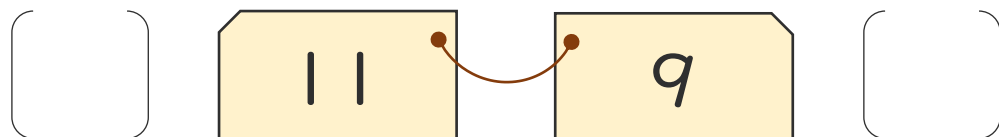
⑥  $10 + 10 = \square$

2 おおきいほうに○をつけましょう。

①



②





10より  
おおきいかず 10  
● 10といくつかをたしたしき



日にち：          月          日

名まえ \_\_\_\_\_

1 たしざんをしましょう。

①  $10 + 1 = 11$

④  $10 + 8 = 18$

②  $10 + 3 = 13$

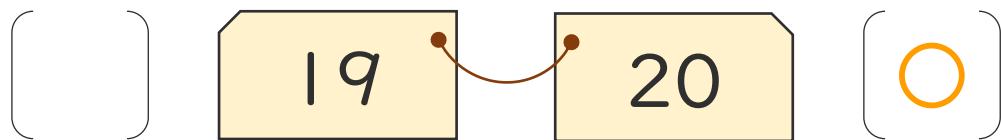
⑤  $10 + 7 = 17$

③  $10 + 4 = 14$

⑥  $10 + 10 = 20$

2 おおきいほうに○をつけましょう。

①



②

