



# おおきいかず 7

3つおおきいかずを、  
かずのせんでしらべよう

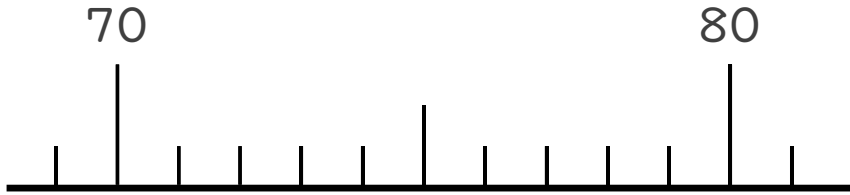


日にち： 月 日

名まえ \_\_\_\_\_

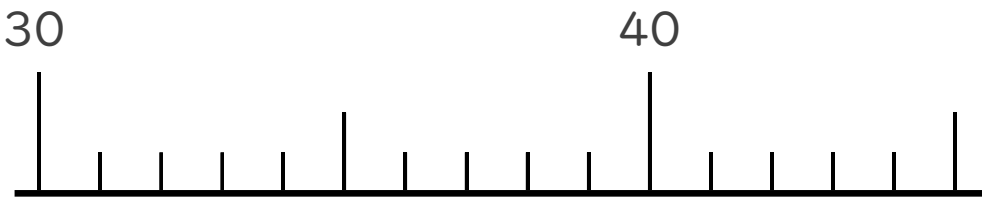
1 かずのせんをつかってしらべましょう。

① 71より 2おおきいかず



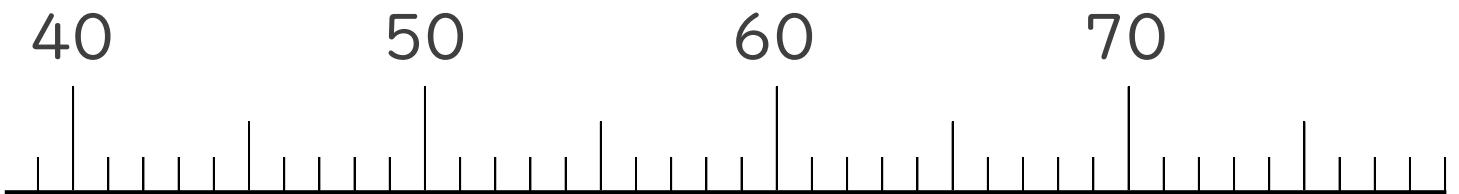
( )

② 40より 5ちいさいかず



( )

2 かずのせんをみて、㊦、㊧のめもりがあらわすかずを  
いみましょう。



↑  
㊦

( )

↑  
㊧

( )





# おおきいかず 7

3つおおきいかずを、  
かずのせんでしらべよう

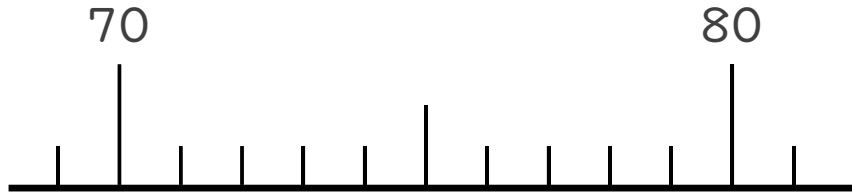


日にち： 月 日

名まえ \_\_\_\_\_

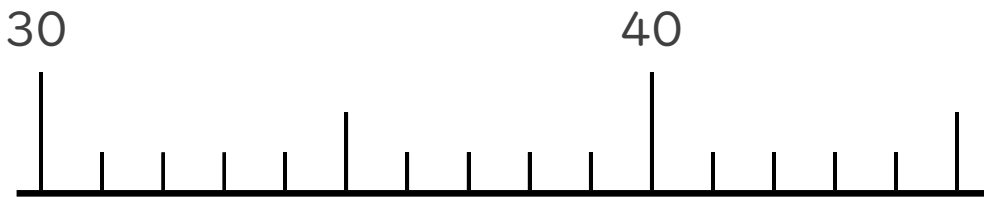
1 かずのせんをつかってしらべましょう。

① 71より 2おおきいかず



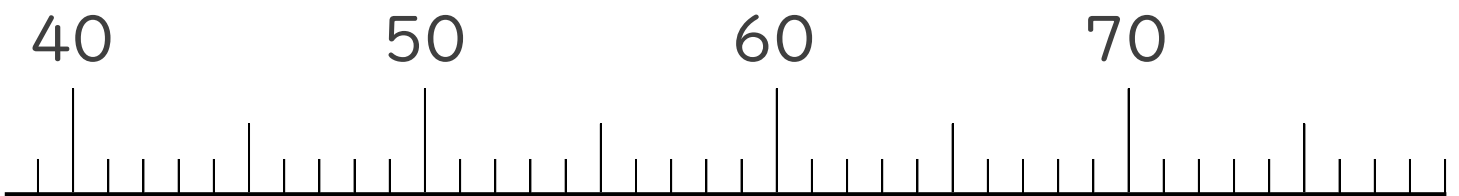
( 73 )

② 40より 5ちいさいかず



( 35 )

2 かずのせんをみて、㊦、㊧のめもりがあらわすかずを  
いみましょう。



( 53 )

( 69 )

