

たしざんと
ひきざん 2

● うしろはなんにん?
(ならびじゆん・きゆうほ)

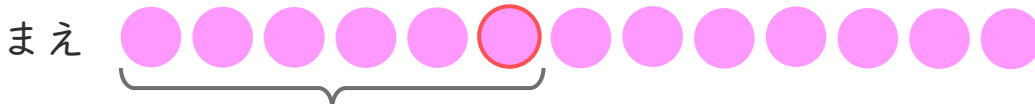
12

日にち： 月 日

名まえ _____

1 パンやさんに 13にん ならんでいます。
かなたさんは まえから 6ばんめにいます。

① にあうかずをかきましょう。



にん

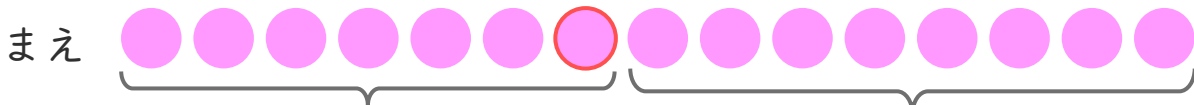
② かなたさんの うしろには なんにん いますか。

しき：

こたえ

2 ゆみさんは、まえから 7ばんめにいます。
ゆみさんの うしろに 8にん います。

① にあうかずをかきましょう。



にん


8にん

② みんなで なんにん いますか。

しき：

こたえ





たしざんと
ひきざん 2

● うしろはなんにん？
(ならびじゆん・きゆうほ)

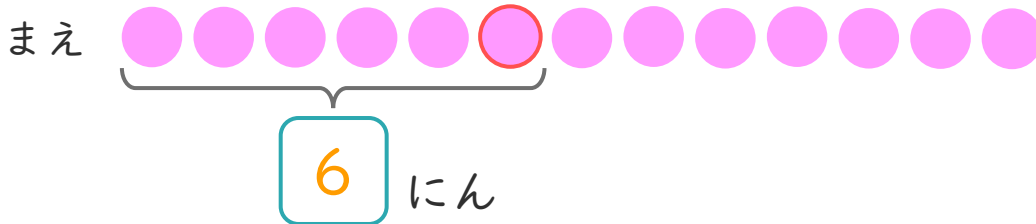
12

日にち： 月 日

名まえ _____

1 パンやさんに 13にん ならんでいます。
かなたさんは まえから 6ばんめにいます。

① にあうかずをかきましょう。



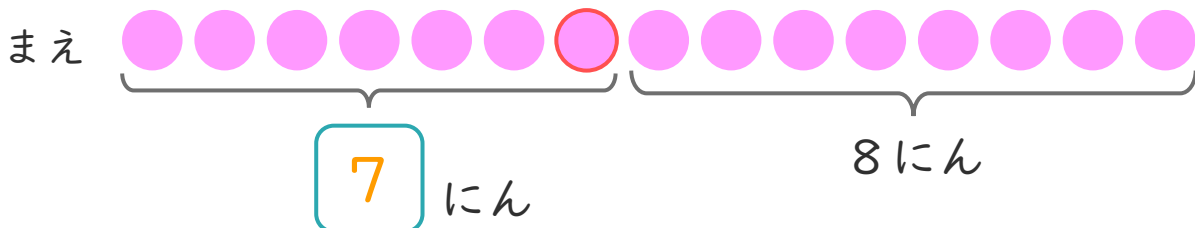
② かなたさんの うしろには なんにん いますか。

しき： $13 - 6 = 7$

こたえ 7 にん

2 ゆみさんは、まえから 7ばんめにいます。
ゆみさんの うしろに 8にん います。

① にあうかずをかきましょう。



② みんなで なんにん いますか。

しき： $7 + 8 = 15$

こたえ 15 にん

