



10より
おおきいかず 9

● おおきいかずは
どちらでしょう

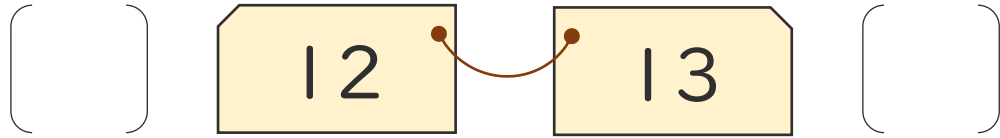
12

日にち： 月 日

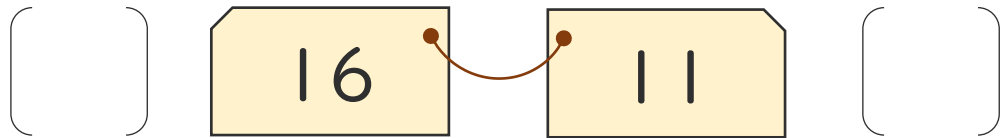
名まえ _____

・ おおきいほうに○をつけましょう。

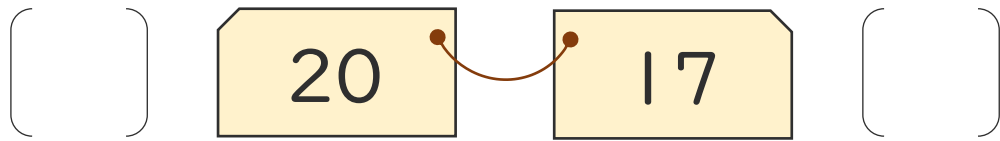
①



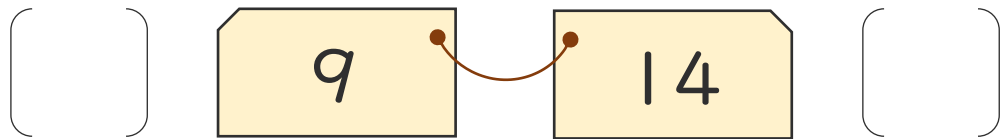
②



③



④





10より
おおきいかず 9

● おおきいかずは
どちらでしょう

12

日にち： 月 日

名まえ _____

・ おおきいほうに ○ をつけましょう。

①

() 12 13 (○)

②

(○) 16 11 ()

③

(○) 20 17 ()

④

() 9 14 (○)

