



くりあがりのある
たしざん 9

◎ ぶんしょう もんだい

12

日にち： 月 日

名まえ _____

1 すいそうに きんぎょが 5ひき います。9ひき もらいました。
きんぎょは、ぜんぶで なんびき になりましたか。

しき：


こたえ

2 おやの とりが 8わ、こどもの とりが 7わ います。
とりは、ぜんぶで なんわ いますか。


しき：

こたえ

3 みかんは あわせて なんこ ですか。しきをかきましょう。



6こ



5こ

しき：

 + = 



くりあがりのある
たしざん 9

◎ ぶんしょう もんだい

12

日にち： 月 日

名まえ _____

1 すいそうに きんぎょが 5ひき います。9ひき もらいました。
きんぎょは、ぜんぶで なんびき になりましたか。

しき： $5 + 9 = 14$


こたえ $\left(14ひき \right)$

2 おやの とりが 8わ、こどもの とりが 7わ います。
とりは、ぜんぶで なんわ いますか。


しき： $8 + 7 = 15$

こたえ $\left(15わ \right)$

3 みかんは あわせて なんこ ですか。しきをかきましょう。



6こ



5こ

しき： $\boxed{6} + \boxed{5} = \boxed{11}$