



くりさがりのある
ひきざん 5

● くりさがりのけいさん
(6や5をひく)

12

日にち： 月 日

名まえ _____

・ けいさんをしましょう。

① $14 - 7 = \square$

⑤ $11 - 7 = \square$

② $15 - 6 = \square$

⑥ $13 - 6 = \square$

③ $12 - 5 = \square$

⑦ $16 - 7 = \square$

④ $14 - 6 = \square$

⑧ $11 - 5 = \square$



くりさがりのある
ひきざん 5

● くりさがりのけいさん
(6や5をひく)

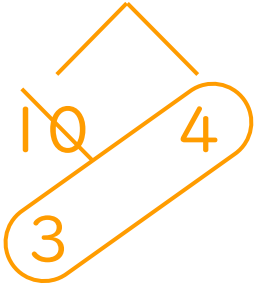
12

日にち： 月 日

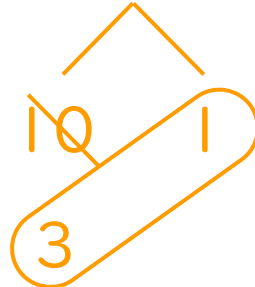
名まえ _____

・ けいさんをしましょう。

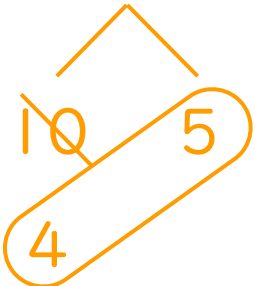
① $14 - 7 = 7$



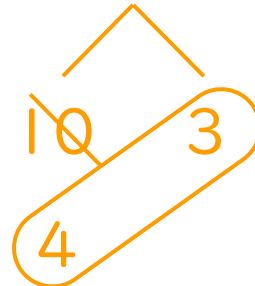
⑤ $11 - 7 = 4$



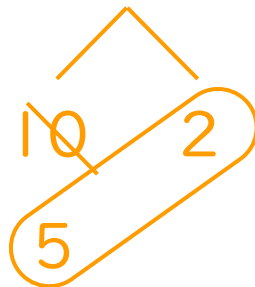
② $15 - 6 = 9$



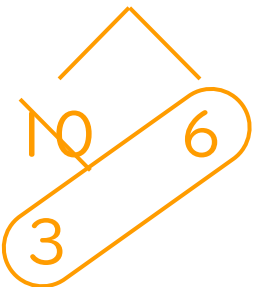
⑥ $13 - 6 = 7$



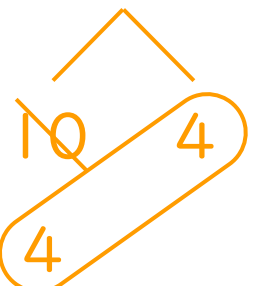
③ $12 - 5 = 7$



⑦ $16 - 7 = 9$



④ $14 - 6 = 8$



⑧ $11 - 5 = 6$

