



たしざんと  
ひきざん 4

● すわれないひとはなんにん?  
(こすうとにんずう)

12

日にち： 月 日

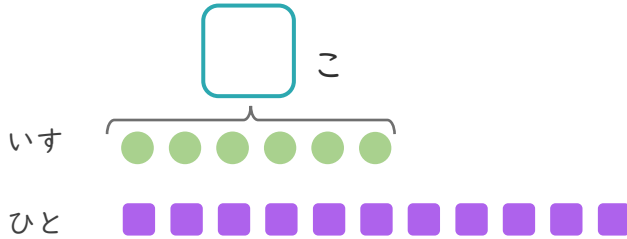
名まえ \_\_\_\_\_

1

いすが 6 こ あります。

11 にんでいすととりゲームを しました。

①  にあうかずをかきましょう。



● と ■ を せんで  
むすびましょう。

② いすにすわれないひとはなんにんですか。

しき：

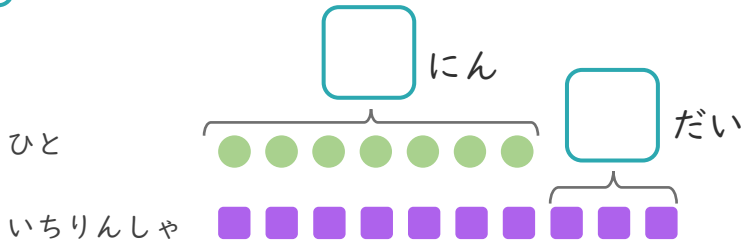
こたえ {

2

7 にんがいちりんしゃにのっています。

いちりんしゃはあと 3 だい あります。

①  にあうかずをかきましょう。



● と ■ を せんで  
むすびましょう。

② いちりんしゃは、ぜんぶでなんだい ありますか。

しき：

こたえ {





たしざんと  
ひきざん 4

● すわれないひとはなんにん?  
(こすうとにんずう)

12

日にち： 月 日

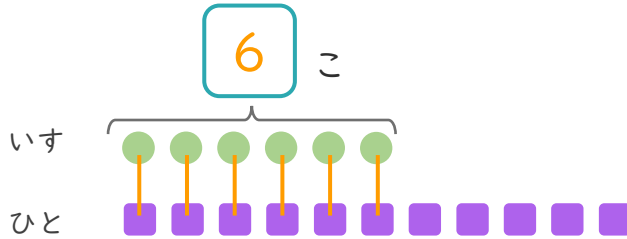
名まえ \_\_\_\_\_

1

いすが 6 こ あります。

11 にんでいすととりゲームを しました。

① □ にあうかずをかきましょう。



● と ■ を せんで  
おすびましょう。

② いすにすわれないひとはなんにんですか。

しき： $11 - 6 = 5$

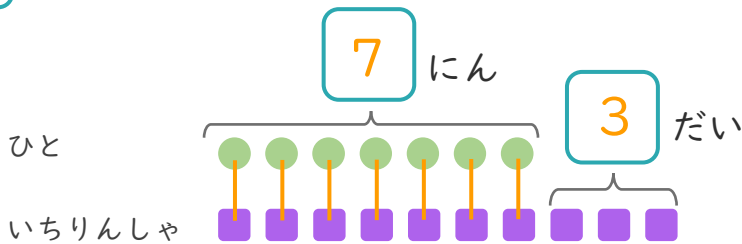
こたえ { 5 にん }

2

7 にんがいちりんしゃにのっています。

いちりんしゃはあと 3 だい あります。

① □ にあうかずをかきましょう。



● と ■ を せんで  
おすびましょう。

② いちりんしゃは、ぜんぶでなんだい ありますか。

しき： $7 + 3 = 10$

こたえ { 10 だい }

