



たしざんと
ひきざん 3

● ぜんぶでなんだい?
(にんずうとだいすう)

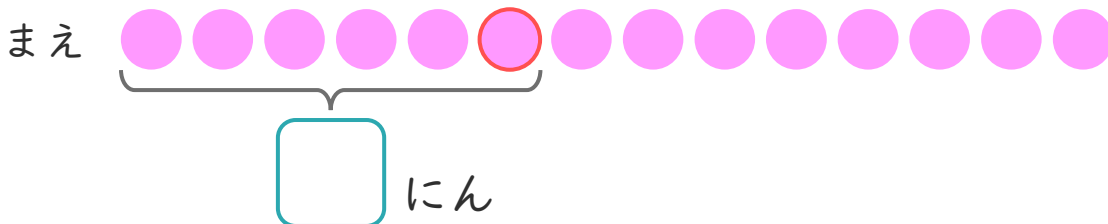
12

日にち： 月 日

名まえ _____

1 おかしやさんに 14 にん ならんでいます。
くみさんは まえ から 6 ばんめに います。

① に あう かず を かき まし ょう。



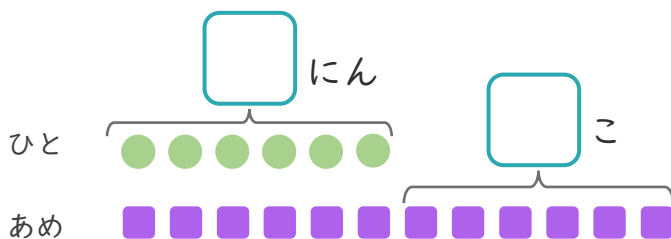
② くみさんの うしろ には なん にん いますか。

しき：

こたえ

2 6 にん に あめ を 1 こ ずつ わけ まし た。
あめ は あと 6 こ あり ます。

① に あう かず を かき まし ょう。



● と ■ を せんで
おすび まし ょう。

② あめ は、ぜんぶ で なん こ あり ますか。

しき：

こたえ





たしざんと
ひきざん 3

● ぜんぶでなんだい?
(にんずうとだいすう)

12

日にち： 月 日

名まえ _____

1 おかしやさんに 14 にん ならんでいます。
くみさんは まえ から 6 ばんめに います。

① に あう かず を かき まし ょう。

まえ

6 にん

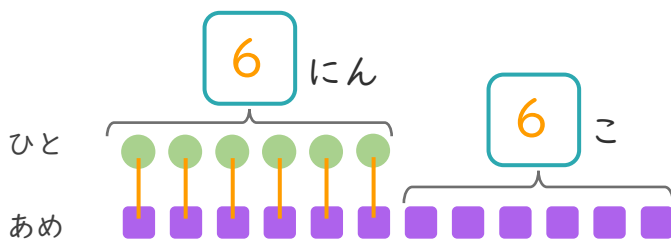
② くみさんの うしろ には なん にん いますか。

しき： $14 - 6 = 8$

こたえ 8 にん

2 6 にん に あめ を 1 こ ずつ わけ まし た。
あめ は あと 6 こ あり ます。

① に あう かず を かき まし ょう。



● と ■ を せんで
おすび まし ょう。

② あめ は、ぜんぶ で なん こ あり ますか。

しき： $6 + 6 = 12$

こたえ 12 こ

