



たしざんと
ひきざん 7

● まえとうしろのにんずう
ぜんぶでなんにん？


12

日にち： 月 日

名まえ _____

1 バスでいにひとがならんでいます。あいさんのまえに
3にん、うしろに7にんいます。

① にあうかずをかきましょう。



② ぜんぶでなんにんならんでいますか。

しき：

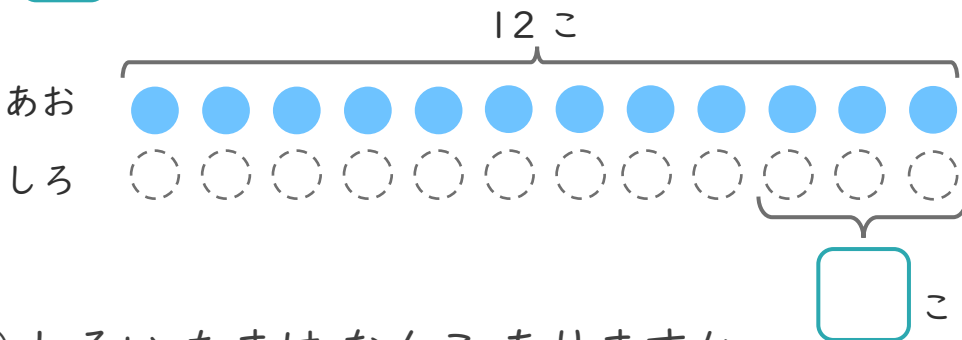
こたえ {

2 あおいたまが12こあります。

しろいたまは、あおいたまより3こすくないそうです。

① にあうかずをかきましょう。

○にいろをぬりましょう。



② しろいたまはなんこありますか。

しき：

こたえ {





たしざんと
ひきざん 7

● まえとうしろのにんずう
ぜんぶでなんにん？


12

日にち： 月 日

名まえ _____

1 バスでいにひとがならんでいます。あいさんのまえに3にん、うしろに7にんいます。

① □ にあうかずをかきましょう。



② ぜんぶでなんにんならんでいますか。

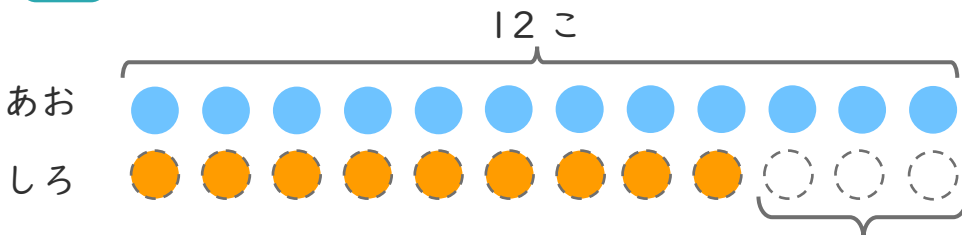
しき： $3 + 1 + 7 = 11$

こたえ { 11 にん }

2 あおいたまが12こあります。
しろいたまは、あおいたまより3こすくないそうです。

① □ にあうかずをかきましょう。

○ にいろをぬりましょう。



3 こすくない

② しろいたまはなんこありますか。

しき： $12 - 3 = 9$

こたえ { 9 こ }

