



のこりはいくつ 8

ひきざんのけいさん


12

日にち： 月 日

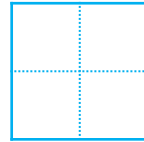
名まえ _____

・ ひきざんをしましょう。

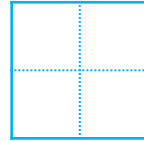
① $8 - 4 =$



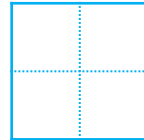
② $9 - 3 =$




③ $2 - 1 =$



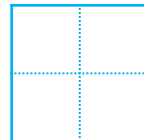
④ $7 - 5 =$



⑤ $8 - 6 =$



⑥ $5 - 2 =$





のこりはいくつ 8

ひきざんのけいさん

12

日にち： 月 日

名まえ _____

・ ひきざんをしましょう。

① $8 - 4 =$

② $9 - 3 =$

③ $2 - 1 =$

④ $7 - 5 =$

⑤ $8 - 6 =$

⑥ $5 - 2 =$

