



たしざんと  
ひきざん 5

● みかんのあめはなんこ?  
(きゅうだい)

12

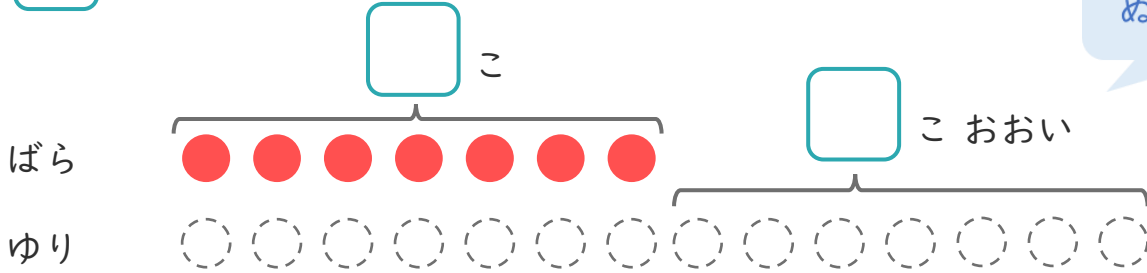
日にち： 月 日

名まえ \_\_\_\_\_

1 たまいれをしました。ばらぐみは、7こはいりました。  
ゆりぐみは、ばらぐみより7こおいそうです。

① □にあうかずをかきましょう。

○にいるをぬりましょう。



② ゆりぐみは、なんこはいりましたか。

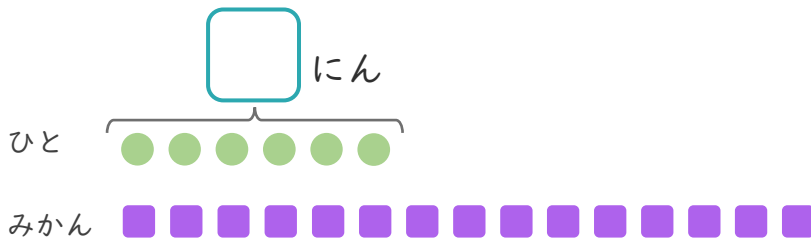
しき：

こたえ {

2 みかんが15こあります。  
6にんに1つずつわけました。

① □にあうかずをかきましょう。

●と■をせんで  
むすびましょう。



② みかんは、なんこのこりますか。

しき：

こたえ {





たしざんと  
ひきざん 5

● みかんのあめはなんこ？  
(きゅうだい)

12

日にち： 月 日

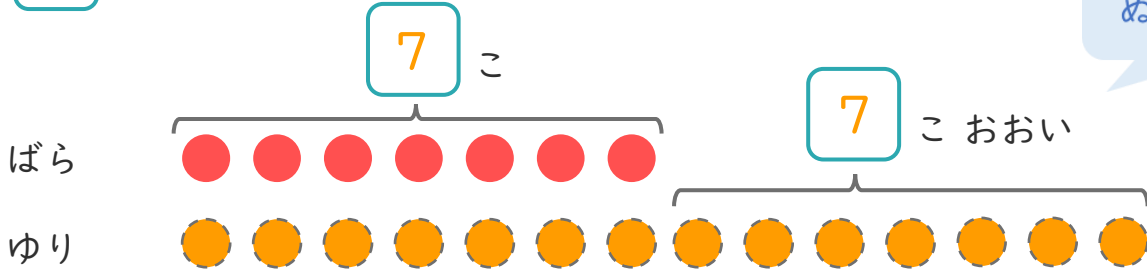
名まえ \_\_\_\_\_

1

たまいれをしました。ばらぐみは、7こはいりました。  
ゆりぐみは、ばらぐみより7こおいそです。

① □ にあうかずをかきましょう。

○にいろをぬりましょう。



② ゆりぐみは、なんこはいりましたか。

しき： $7 + 7 = 14$

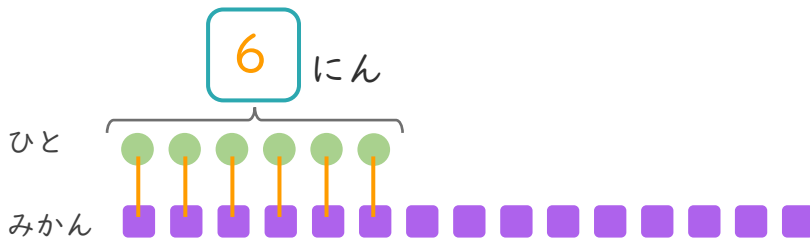
こたえ { 14 こ }

2

みかんが15こあります。  
6にんに1つずつわけました。

① □ にあうかずをかきましょう。

●と■をせんでおすびましょう。



② みかんは、なんこのこりますか。

しき： $15 - 6 = 9$

こたえ { 9 こ }

