



10より
おおきいかず 10
● 10といくつかをたしたしき

12

日にち： 月 日

名まえ _____

1 たしざんをしましょう。

① $10 + 3 =$

④ $10 + 7 =$

② $10 + 6 =$

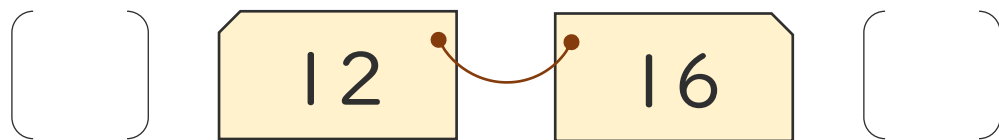
⑤ $10 + 5 =$

③ $10 + 9 =$

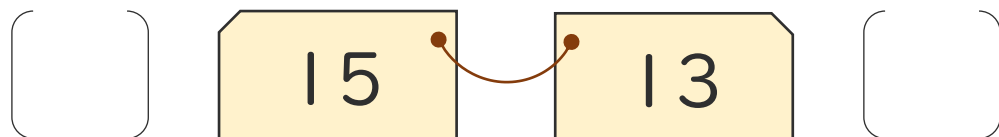
⑥ $10 + 4 =$

2 おおきいほうに○をつけましょう。

①



②





10より
おおきいかず 10
● 10といくつかをたしたしき

12

日にち： 月 日

名まえ _____

1 たしざんをしましょう。

① $10 + 3 = 13$

④ $10 + 7 = 17$

② $10 + 6 = 16$

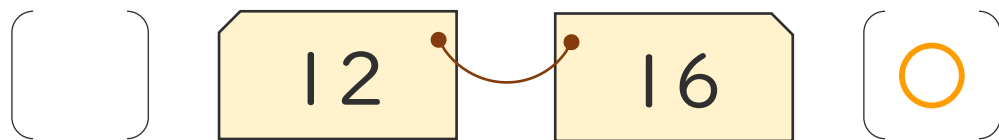
⑤ $10 + 5 = 15$

③ $10 + 9 = 19$

⑥ $10 + 4 = 14$

2 おおきいほうに○をつけましょう。

①



②

