



# おおきいかず 7

3つおおきいかずを、  
かずのせんでしらべよう

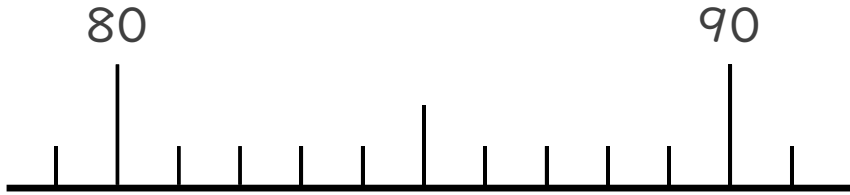


日にち： 月 日

名まえ \_\_\_\_\_

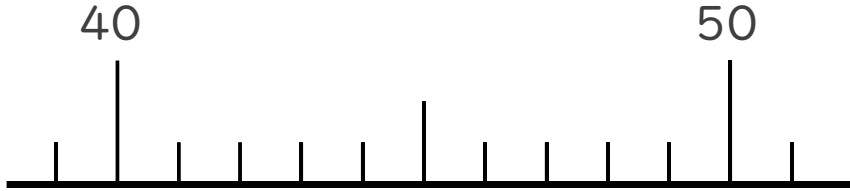
1 かずのせんをつかってしらべましょう。

① 89より 3ちいさいかず



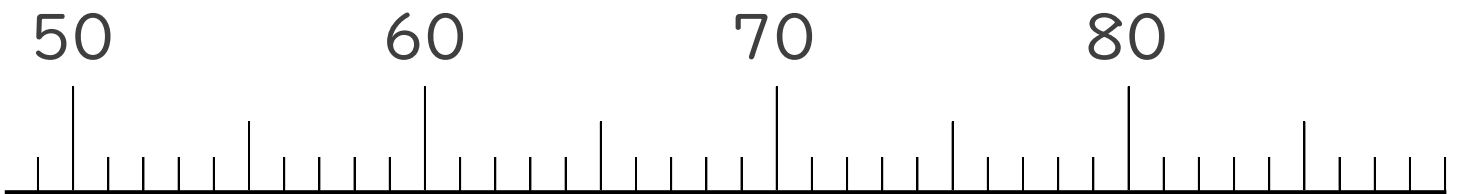
( )

② 42より 5おおきいかず



( )

2 かずのせんをみて、㊦、㊧のめもりがあらわすかずを  
いみましょう。



㊦

( )

㊧

( )





# おおきいかず 7

3つおおきいかずを、  
かずのせんでしらべよう

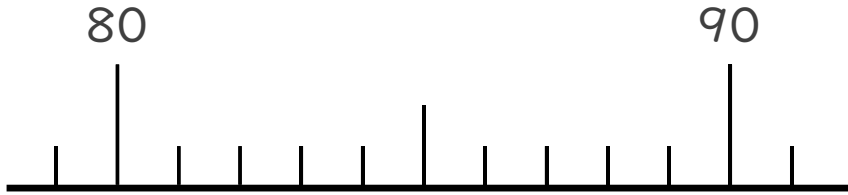


日にち：            月            日

名まえ \_\_\_\_\_

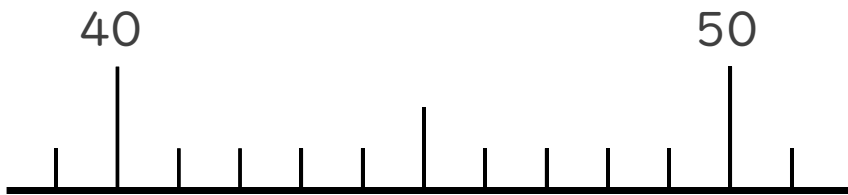
1 かずのせんをつかってしらべましょう。

① 89より 3ちいさいかず



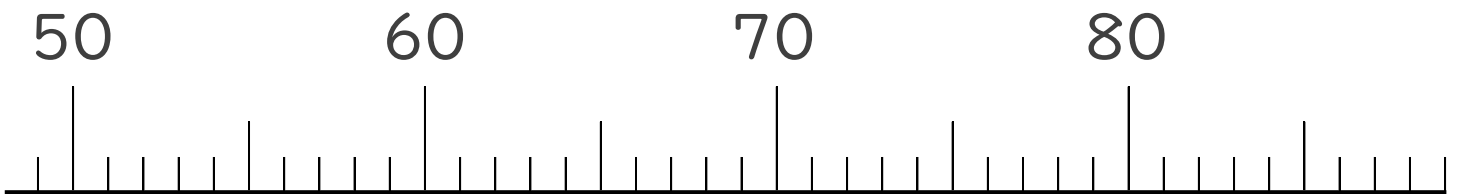
( 86 )

② 42より 5おおきいかず



( 47 )

2 かずのせんをみて、㊦、㊧のめもりがあらわすかずを  
いみましょう。



㊦

( 58 )

㊧

( 81 )

