





なかまづくりとかず 4

◎ あわせて5こになる
おはじきのかず


13

日にち： 月 日

名まえ _____

1 おはじきを 5 ことります。  はなんこですか。
また、  はなんこですか。

①




 が

 こ,  が

 こ

②



 が

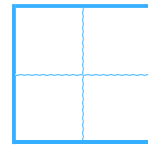
 こ,  が

 こ

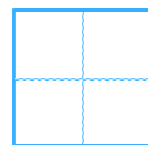
2 いくつでしょう。

 にすうじをかきましょう。

①



②







なかまづくりとかず 4

◎ あわせて5こになる
おはじきのかず




日にち： 月 日

名まえ _____


1 おはじきを 5 ことります。  はなんこですか。
また、  はなんこですか。

①



 が こ,  が こ

②



 が こ,  が こ

2 いくつでしょう。 にすうじをかきましょう。

①



②

