

たしざんと
ひきざん 2

● うしろはなんにん?
(ならびじゆん・きゆうほ)

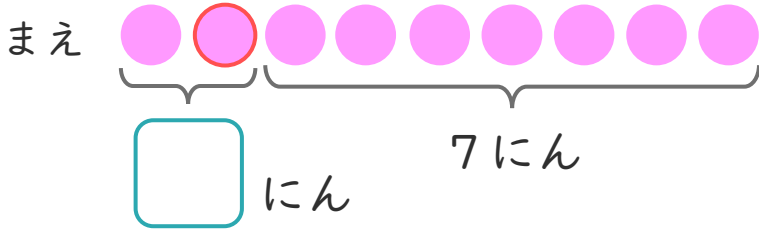
13

日にち： 月 日

名まえ _____

1 かなたさんは、まえから 2ばんめにいます。
かなたさんの うしろに 7にん います。

① にあうかずをかきましょう。



② みんなで なんにん いますか。

しき：

こたえ {

2 きしゃに 11にん のっています。

みなみさんは まえから 3ばんめに います。

① にあうかずをかきましょう。




② みなみさんの うしろには なんにん いますか。

しき：

こたえ {





たしざんと
ひきざん 2

● うしろはなんにん?
(ならびじゆん・きゆうほ)

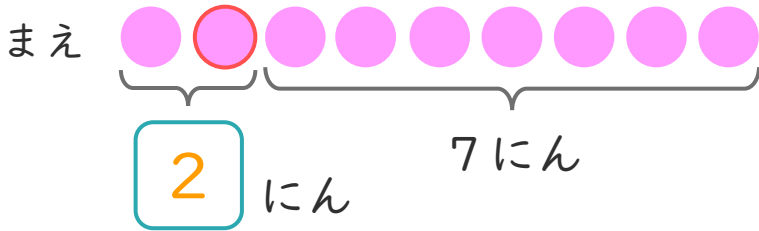
13

日にち： 月 日

名まえ _____

1 かなたさんは、まえから 2ばんめにいます。
かなたさんの うしろに 7にん います。

① □ にあうかずをかきましょう。



② みんなで なんにん いますか。

しき： $2 + 7 = 9$

こたえ { 9 にん }

2 きしゃに 11にん のっています。

みなみさんは まえから 3ばんめに います。

① □ にあうかずをかきましょう。



② みなみさんの うしろには なんにん いますか。

しき： $11 - 3 = 8$

こたえ { 8 にん }

