



くりさがりのある
ひきざん 5

● くりさがりのけいさん
(6や5をひく)



日にち： 月 日

名まえ _____

・ けいさんをしましょう。

① $15 - 6 = \square$

⑤ $14 - 6 = \square$

② $15 - 7 = \square$

⑥ $14 - 5 = \square$

③ $11 - 7 = \square$

⑦ $11 - 6 = \square$

④ $12 - 5 = \square$

⑧ $12 - 7 = \square$



くりさがりのある
ひきざん 5

● くりさがりのけいさん
(6や5をひく)

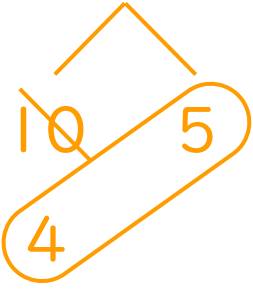
13

日にち： 月 日

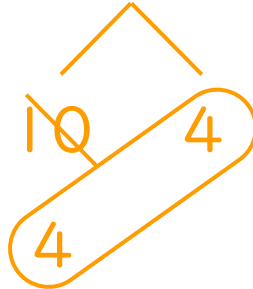
名まえ _____

・ けいさんをしましょう。

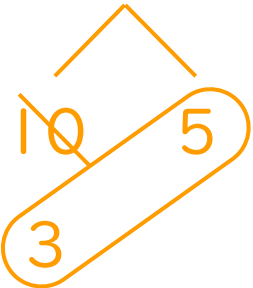
① $15 - 6 = 9$



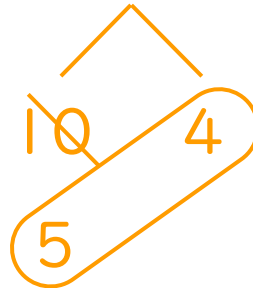
⑤ $14 - 6 = 8$



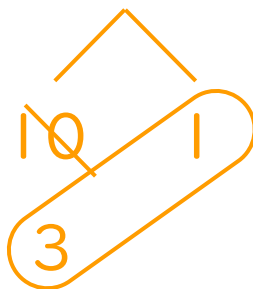
② $15 - 7 = 8$



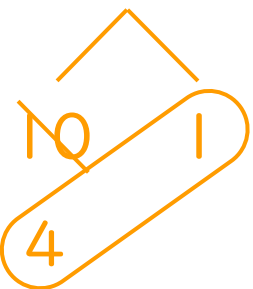
⑥ $14 - 5 = 9$



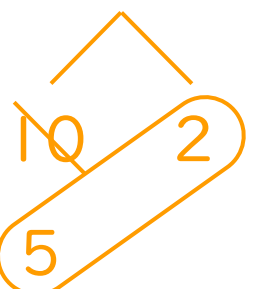
③ $11 - 7 = 4$



⑦ $11 - 6 = 5$



④ $12 - 5 = 7$



⑧ $12 - 7 = 5$

