



くりさがりのある
ひきざん 2

● くりさがりの けいさん
(9 をひく)

13

日にち： 月 日

名まえ _____

・ けいさんをしましょう。

① $13 - 9 = \square$

⑤ $16 - 9 = \square$

② $11 - 9 = \square$

⑥ $12 - 9 = \square$

③ $17 - 9 = \square$

⑦ $14 - 9 = \square$

④ $15 - 9 = \square$

⑧ $18 - 9 = \square$



くりさがりのある
ひきざん 2

● くりさがりのけいさん
(9をひく)

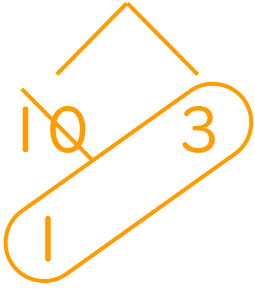
13

日にち： 月 日

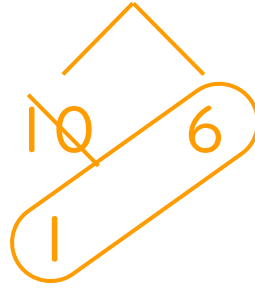
名まえ _____

・ けいさんをしましょう。

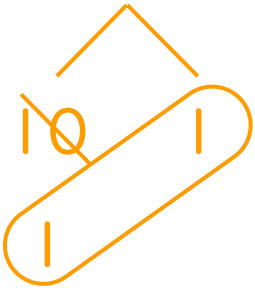
① $13 - 9 = 4$



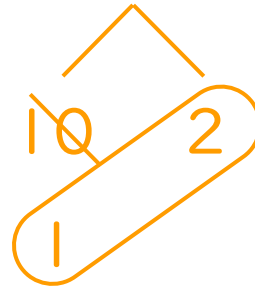
⑤ $16 - 9 = 7$



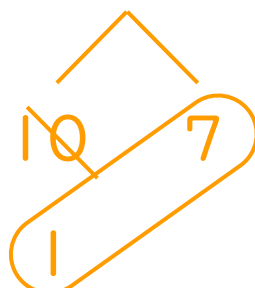
② $11 - 9 = 2$



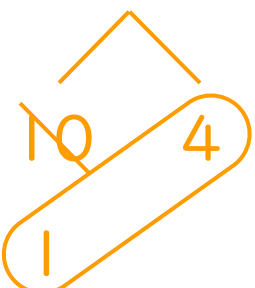
⑥ $12 - 9 = 3$




③ $17 - 9 = 8$



⑦ $14 - 9 = 5$



④ $15 - 9 = 6$



⑧ $18 - 9 = 9$

