



たしざんと  
ひきざん 6

くりはなんこ?  
(きゅうしょう)

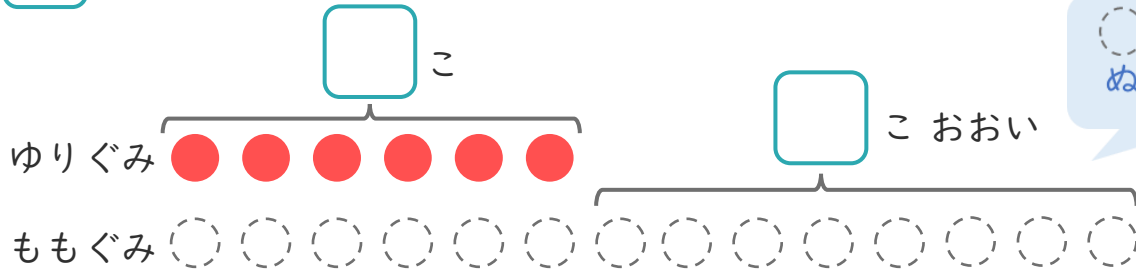
13

日にち： 月 日

名まえ \_\_\_\_\_

1 たまいれをしました。ゆりぐみは、6こはいりました。  
ももぐみは、ゆりぐみより8こおおいそうです。

①  にあうかずをかきましょう。



にいろを  
ぬりましょう。

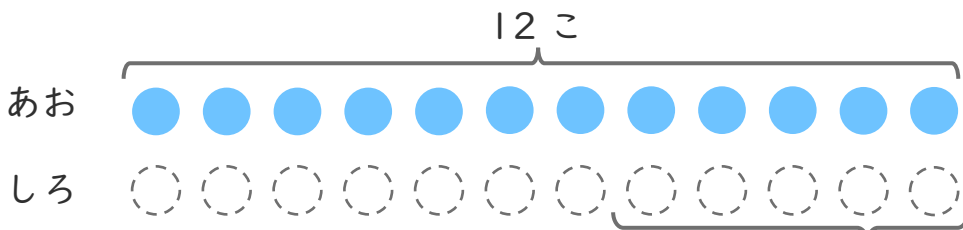
② ももぐみは、なんこはいりましたか。

しき：

こたえ {

2 あおいたまが12こあります。  
しろいたまは、あおいたまより5こすくないそうです。

①  にあうかずをかきましょう。



にいろを  
ぬりましょう。

② しろいたまはなんこありますか。

しき：

こたえ {





たしざんと  
ひきざん 6  
くりはなんこ?  
(きゆうしょう)

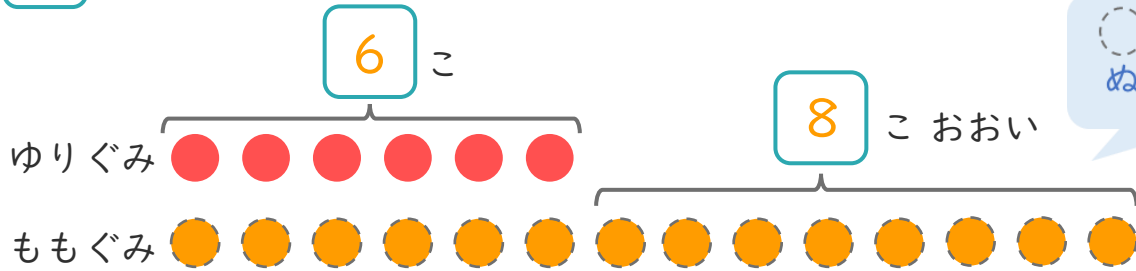
13

日にち： 月 日

名まえ \_\_\_\_\_

1 たまいれをしました。ゆりぐみは、6こはいりました。  
ももぐみは、ゆりぐみより8こおいそうです。

① □にあうかずをかきましょう。



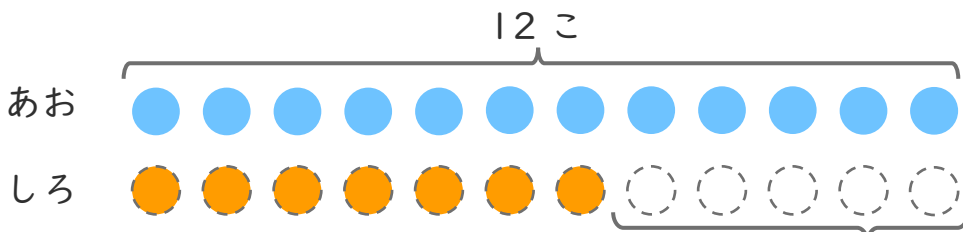
② ももぐみは、なんこはいりましたか。

しき： $6 + 8 = 14$

こたえ { 14 こ }

2 あおいたまが12こあります。  
しろいたまは、あおいたまより5こすくないそうです。

① □にあうかずをかきましょう。



② しろいたまはなんこありますか。

5 こすくない

しき： $12 - 5 = 7$

こたえ { 7 こ }

