



たしざんと
ひきざん 4

● すわれないひとはなんにん?
(こすうとにんずう)

13

日にち： 月 日

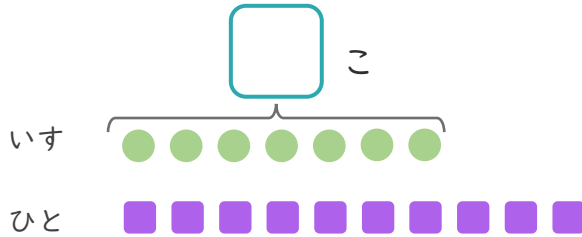
名まえ _____

1

いすが 7 こ あります。

10 にんでいすととりゲームを しました。

① にあうかずをかきましょう。



● と ■ を せんで
むすびましょう。

② いすにすわれないひとはなんにんですか。

しき：

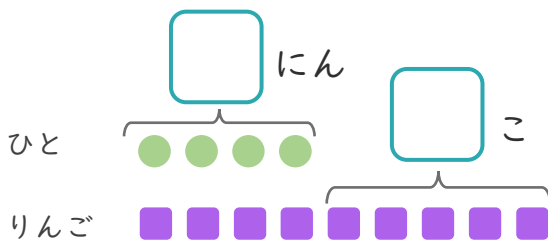
こたえ {

2

4 にんにりんごを 1 こずつ わけました。

りんごはあと 5 こ あります。

① にあうかずをかきましょう。



● と ■ を せんで
むすびましょう。

② りんごは、ぜんぶでなんこ ありますか。

しき：

こたえ {





たしざんと
ひきざん 4

● すわれないひとはなんにん?
(こすうとにんずう)

13

日にち： 月 日

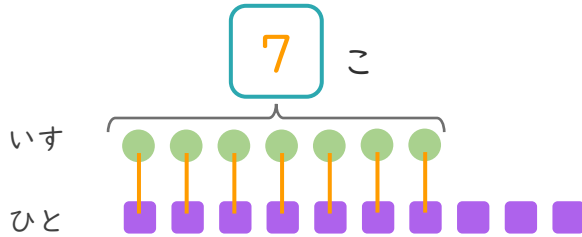
名まえ _____

1

いすが 7 こ あります。

10 にんで いすと どり ゲーム を しました。

① □ に あう かず を かき まし ょう。



● と ■ を せんで
お す び ま し ょ う。

② いす に すわ れ な い ひ と は なん に ん で す か。

しき： $10 - 7 = 3$

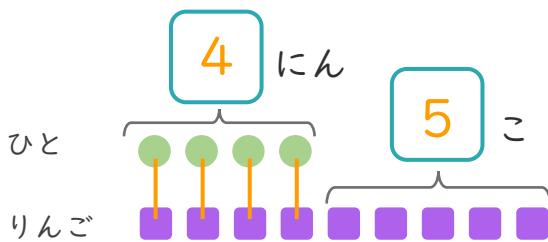
こたえ { 3 にん }

2

4 に ん に り ん ご を 1 こ ず つ わ け ま し た。

り ん ご は あ と 5 こ あ り ま す。

① □ に あう かず を かき まし ょう。



● と ■ を せんで
お す び ま し ょ う。

② り ん ご は、ぜ ん ぶ で なん こ あ り ま す か。

しき： $4 + 5 = 9$

こたえ { 9 こ }

