



たしざんと
ひきざん 3

● ぜんぶでなんだい?
(にんずうとだिसう)

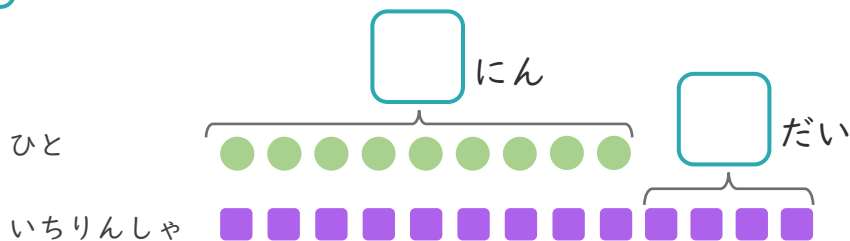
13

日にち： 月 日

名まえ _____

1 9にんがいちりんしゃであそんでいます。
いちりんしゃはあと4だいあります。

① にあうかずをかきましょう。



● と ■ をせんで
おすびましょう。

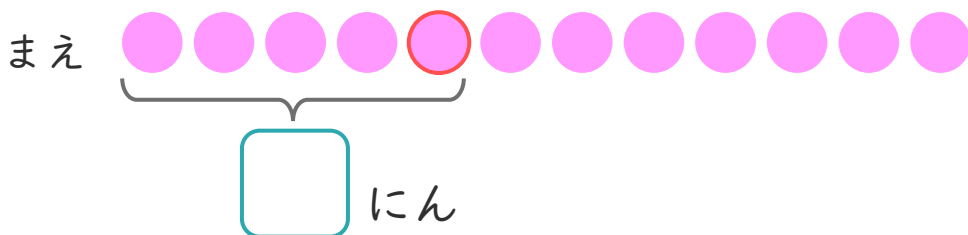
② いちりんしゃは、ぜんぶでなんだいありますか。

しき：

こたえ

2 きしゃに12にんのっています。
ゆうきさんはまえから5ばんめにいます。

① にあうかずをかきましょう。



② ゆうきさんのうしろにはなんにんいますか。

しき：

こたえ





たしざんと
ひきざん 3

● ぜんぶでなんだい?
(にんずうとだいすう)

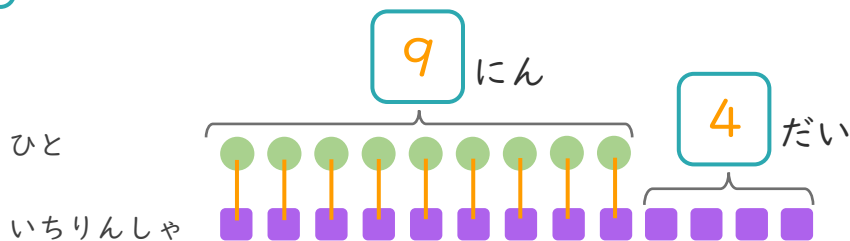
13

日にち： 月 日

名まえ _____

1 9にんがいちりんしゃであそんでいます。
いちりんしゃはあと4だいあります。

① □にあうかずをかきましょう。



● と ■ を せんで
おすびましょう。

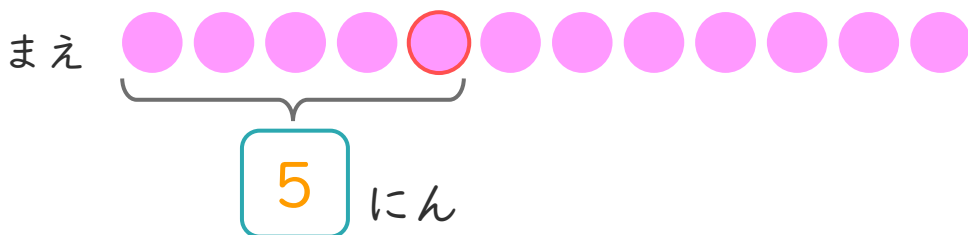
② いちりんしゃは、ぜんぶでなんだいありますか。

しき： $9 + 4 = 13$

こたえ { 13 だい }

2 きしゃに12にんのっています。
ゆうきさんはまえから5ばんめにいます。

① □にあうかずをかきましょう。



② ゆうきさんのうしろにはなんにんいますか。

しき： $12 - 5 = 7$

こたえ { 7 にん }

