



たしざんと  
ひきざん 7

● まえとうしろのにんずう  
ぜんぶでなんにん？

13

日にち： 月 日

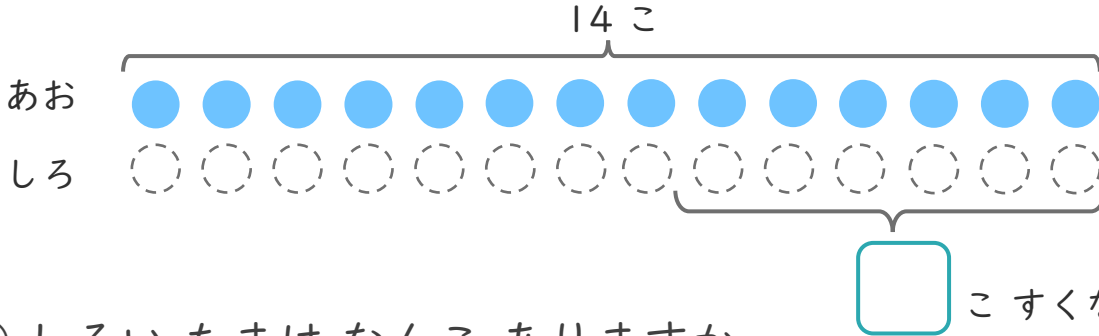
名まえ \_\_\_\_\_

1 あおいたまが 14こ あります。

しろいたまは、あおいたまより 6こ すくないそうです。

①  にあうかずをかきましょう。

にいろをぬりましょう。



② しろいたまはなんこ ありますか。

しき：

こたえ {

2 こどもがならんでいます。なぎささんのまえに 8にん、うしろに 3にん います。

①  にあうかずをかきましょう。



② ぜんぶでなんにん ならんでいますか。

しき：

こたえ {





たしざんと  
ひきざん 7

● まえとうしろのにんずう  
ぜんぶでなんにん？

13

日にち：            月            日

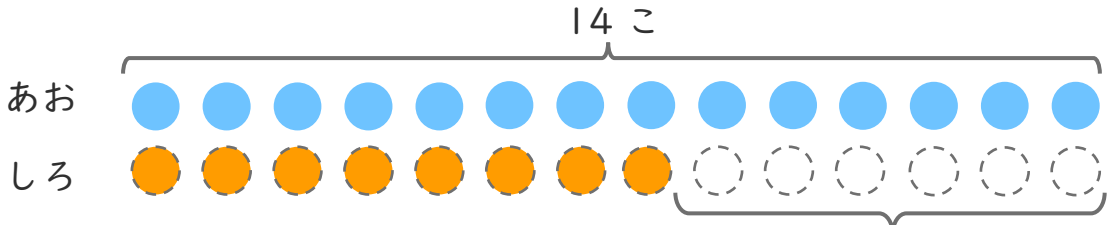
名まえ \_\_\_\_\_

1 あおいたまが 14こ あります。

しろいたまは、あおいたまより 6こ すくないそうです。

① □ にあうかずをかきましょう。

○ にいろをぬりましょう。



6 こすくない

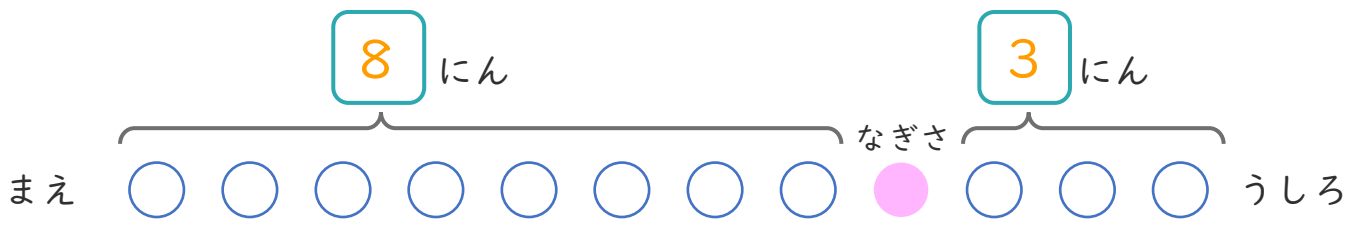
② しろいたまはなんこ ありますか。

しき： $14 - 6 = 8$

こたえ { 8 こ }

2 こどもがならんでいます。なぎささんのまえに 8にん、うしろに 3にん います。

① □ にあうかずをかきましょう。



② ぜんぶでなんにん ならんでいますか。

しき： $8 + 1 + 3 = 12$

こたえ { 12 にん }