



たしざんと
ひきざん 6
● どんぐりはなんこ？
(きゅうしょう)

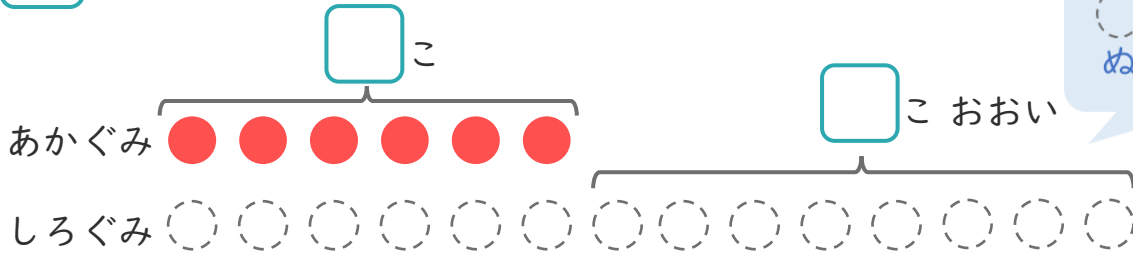
13

日にち： 月 日

名まえ _____

1 たまいれをしました。あかぐみは、6こはいりました。
しろぐみは、あかぐみより8こおおいそうです。

① にあうかずをかきましょう。



○にいろを
ぬりましょう。

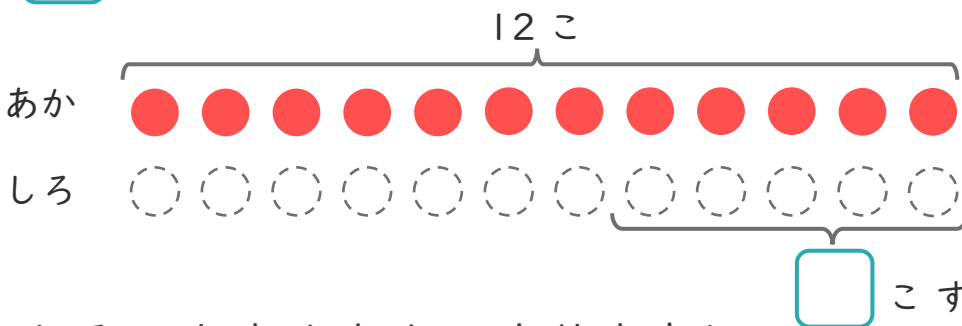
② しろぐみは、なんこはいりましたか。

しき：

こたえ {

2 あかいたまが12こあります。
しろいたまは、あかいたまより5こすくないそうです。

① にあうかずをかきましょう。



○にいろを
ぬりましょう。

② しろいたまはなんこありますか。

しき：

こたえ {





たしざんと
ひきざん 6

● どんぐりはなんこ?
(きゅうしょう)

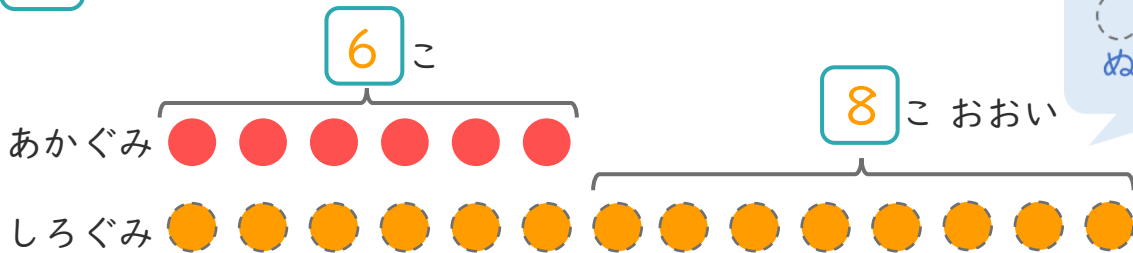
13

日にち： 月 日

名まえ _____

1 たまいれをしました。あかぐみは、6こはいりました。
しろぐみは、あかぐみより8こおいそうです。

① □にあうかずをかきましょう。



○にいろを
ぬりましょう。

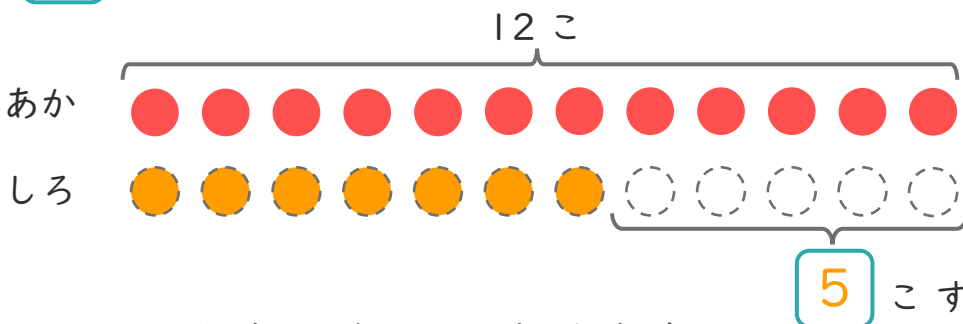
② しろぐみは、なんこはいりましたか。

しき： $6 + 8 = 14$

こたえ { 14 こ }

2 あかいたまが12こあります。
しろいたまは、あかいたまより5こすくないそうです。

① □にあうかずをかきましょう。



○にいろを
ぬりましょう。

② しろいたまはなんこありますか。

しき： $12 - 5 = 7$

こたえ { 7 こ }

