



たしざんと  
ひきざん 5

● みかんのあめはなんこ?  
(きゅうだい)

13

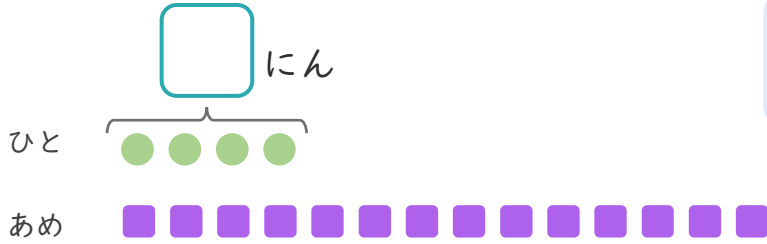
日にち： 月 日

名まえ \_\_\_\_\_

1 あめが 14こ あります。

4にんに 1つずつ わけました。

① □ にあう かずを かきましょう。



● と ■ を せんで  
むすびましょう。

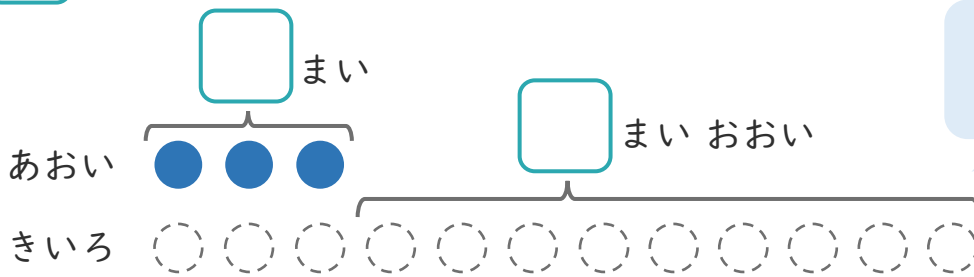
② あめは、なんこのこりますか。

しき：

こたえ {

2 あおい かみを 3まい かいました。きいろい かみは、  
あおい かみより 9まい おおく かいました。

① □ にあう かずを かきましょう。



○ にいろを  
ぬりましょう。

② きいろい かみは なんまい かいましたか。

しき：

こたえ {





たしざんと  
ひきざん 5

● みかんのあめはなんこ?  
(きゅうだい)

13

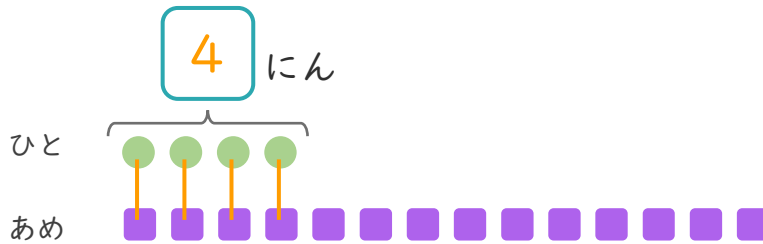
日にち： 月 日

名まえ \_\_\_\_\_

1 あめが 14こ あります。

4にんに 1つずつ わけました。

① □ にあう かずを かきましょう。



● と ■ を せんで  
むすびましょう。

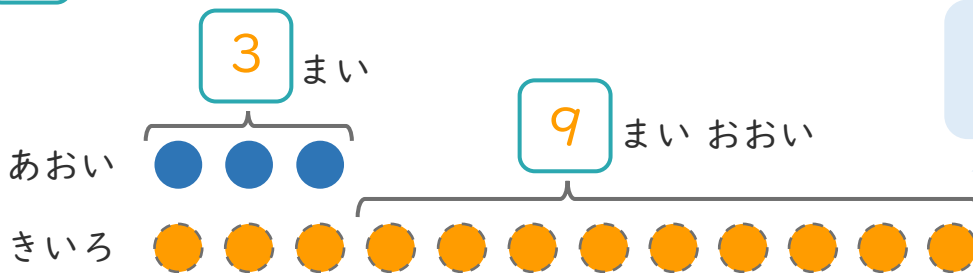
② あめは、なんこのこりますか。

しき： $14 - 4 = 10$

こたえ { 10 こ }

2 あおい かみを 3まい かいました。きいろい かみは、  
あおい かみより 9まい おおく かいました。

① □ にあう かずを かきましょう。



○ にいろを  
ぬりましょう。

② きいろい かみは なんまい かいましたか。

しき： $3 + 9 = 12$

こたえ { 12 まい }

