



のこりはいくつ？

● 10からひくひきざん


13

日にち：            月            日

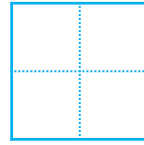
名まえ \_\_\_\_\_

・ ひきざんをしましょう。

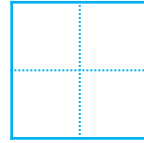
①  $6 - 4 =$



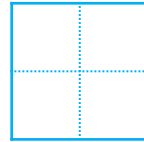
②  $10 - 1 =$



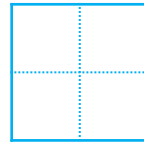
③  $4 - 3 =$



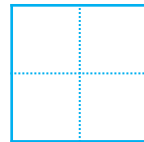
④  $7 - 5 =$



⑤  $10 - 9 =$



⑥  $8 - 5 =$





のこりはいくつ？

● 10からひくひきざん

13

日にち：            月            日

名まえ \_\_\_\_\_

・ ひきざんをしましょう。

①  $6 - 4 =$

②  $10 - 1 =$

③  $4 - 3 =$

④  $7 - 5 =$

⑤  $10 - 9 =$

⑥  $8 - 5 =$