



おおきいかず 7

3つおおきいかずを、
かずのせんでしらべよう

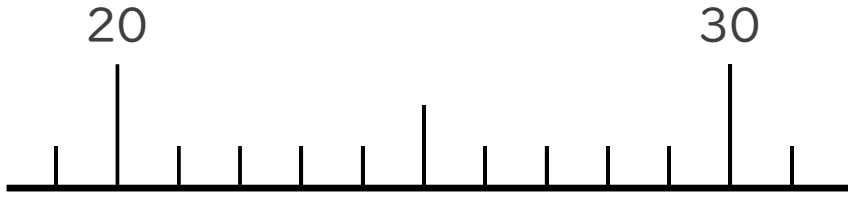


日にち： 月 日

名まえ _____

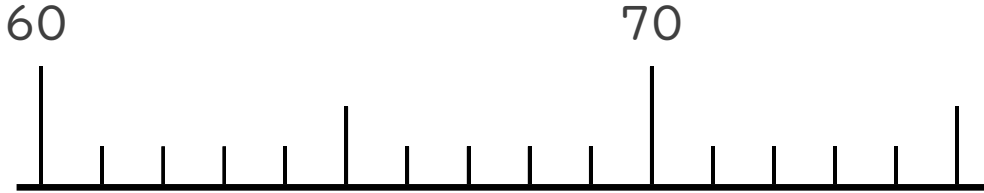
1 かずのせんをつかってしらべましょう。

① 26より4ちいさいかず



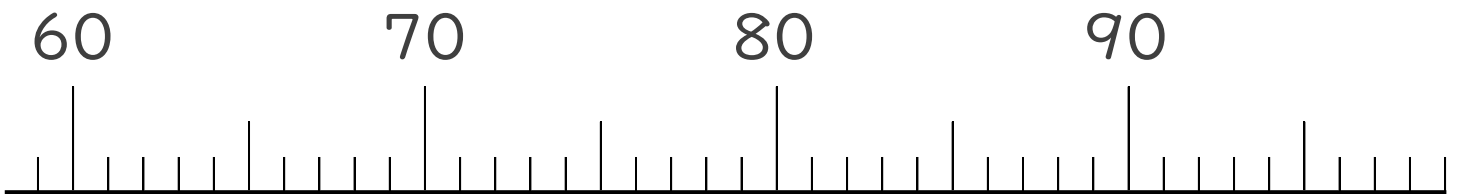
()

② 68より5おおきいかず



()

2 かずのせんをみて、ア、イのめもりがあらわすかずを
いみましょう。



↑
ア

()

↑
イ

()





おおきいかず 7

3つおおきいかずを、
かずのせんでしらべよう

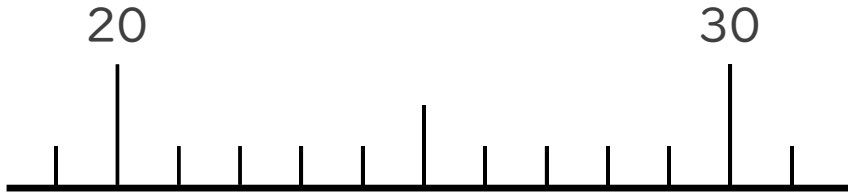


日にち： 月 日

名まえ _____

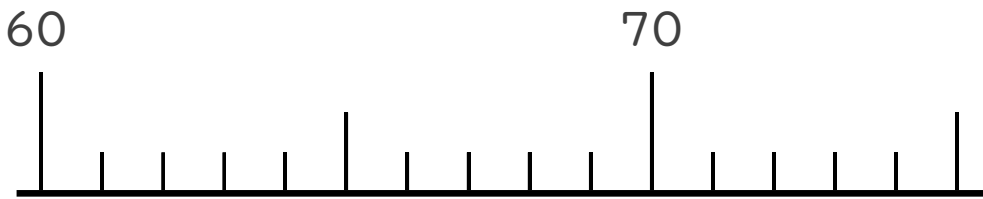
1 かずのせんをつかってしらべましょう。

① 26より4ちいさいかず



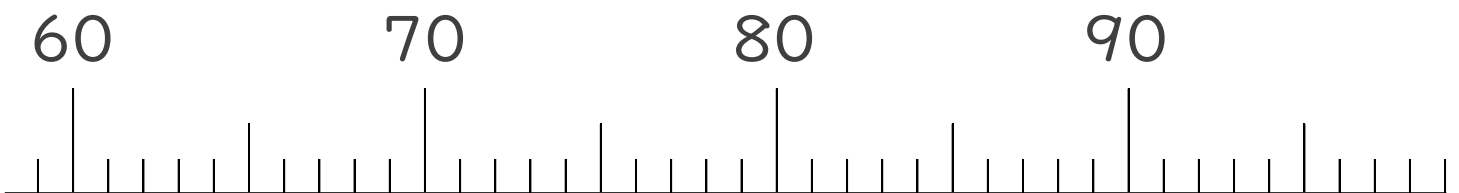
(22)

② 68より5おおきいかず



(73)

2 かずのせんをみて、ア、イのめもりがあらわすかずを
いみましょう。



ア

(66)

イ

(92)

