



くりあがりのある
たしざん 9

◎ ぶんしょう もんだい

14

日にち： 月 日

名まえ _____

1 おとなが 6 にん、こどもが 8 にん います。
みんなで なんにん いますか。

しき：


こたえ

2 ゆうとさんは さかなを 5 ひき、あいさんは 6 ひき
つりました。さかなは、ぜんぶで なんびき つれましたか。


しき：

こたえ

3 にんじんは あわせて なんぼん ですか。しきを かきましょう。



9 ほん



4 ほん

しき：

 + = 



くりあがりのある
たしざん 9

◎ ぶんしょう もんだい

14

日にち： 月 日

名まえ _____

1 おとなが 6 にん、こどもが 8 にん います。
みんなで なんにん いますか。

しき： $6 + 8 = 14$


こたえ $\left(14 \text{ にん} \right)$

2 ゆうとさんは さかなを 5 ひき、あいさんは 6 ひき
つりました。さかなは、ぜんぶで なんびき つれましたか。


しき： $5 + 6 = 11$

こたえ $\left(11 \text{ ひき} \right)$

3 にんじんは あわせて なんぼん ですか。しきをかきましょう。



9 ほん



4 ほん

しき： $\boxed{9} + \boxed{4} = \boxed{13}$