



くりさがりのある
ひきざん 4
● くりさがりのけいさん
(7をひく)

14

日にち： 月 日

名まえ _____

・ けいさんをしましょう。

① $12 - 8 =$

⑤ $15 - 8 =$

② $12 - 7 =$

⑥ $11 - 7 =$

③ $14 - 8 =$

⑦ $16 - 7 =$

④ $14 - 7 =$

⑧ $13 - 7 =$



くりさがりのある
ひきざん 4
● くりさがりのけいさん
(7をひく)

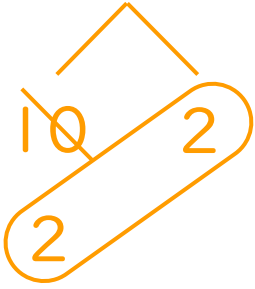
14

日にち： 月 日

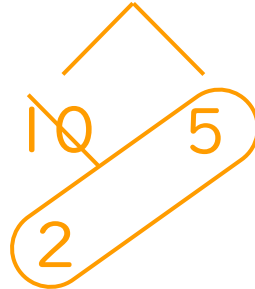
名まえ _____

・ けいさんをしましょう。

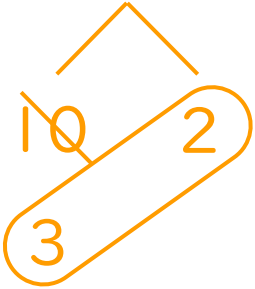
① $12 - 8 = 4$



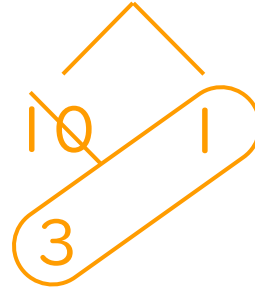
⑤ $15 - 8 = 7$



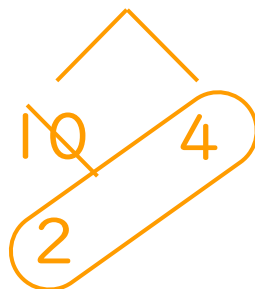
② $12 - 7 = 5$



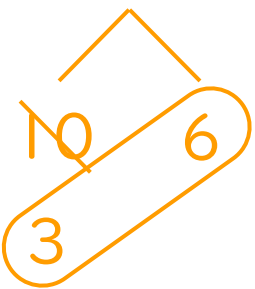
⑥ $11 - 7 = 4$



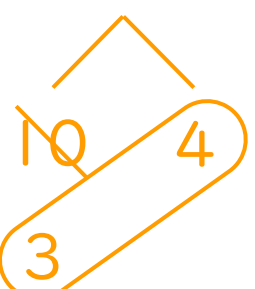
③ $14 - 8 = 6$



⑦ $16 - 7 = 9$



④ $14 - 7 = 7$



⑧ $13 - 7 = 6$

