



くりさがりのある
ひきざん 3

● くりさがりの けいさん
(8 をひく)

14

日にち： 月 日

名まえ _____

・ けいさんをしましょう。

① $16 - 8 =$

⑤ $13 - 9 =$

② $13 - 8 =$

⑥ $14 - 8 =$

③ $11 - 8 =$

⑦ $17 - 9 =$

④ $15 - 9 =$

⑧ $17 - 8 =$



くりさがりのある
ひきざん 3

● くりさがりのけいさん
(8をひく)

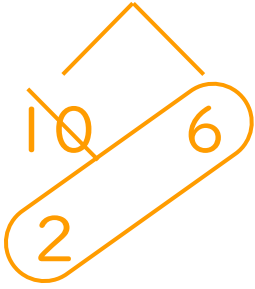
14

日にち： 月 日

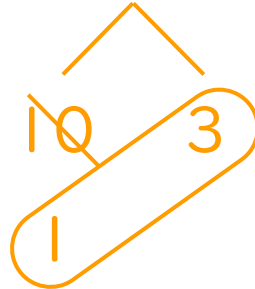
名まえ _____

・ けいさんをしましょう。

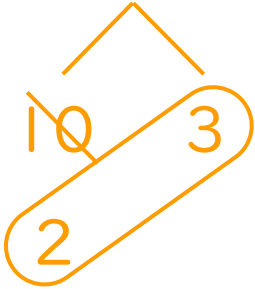
① $16 - 8 = 8$



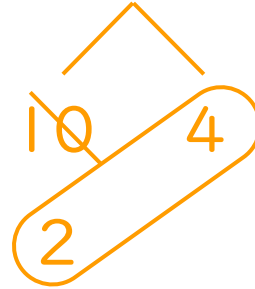
⑤ $13 - 9 = 4$



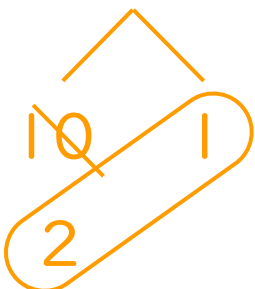
② $13 - 8 = 5$




⑥ $14 - 8 = 6$




③ $11 - 8 = 3$



⑦ $17 - 9 = 8$



④ $15 - 9 = 6$



⑧ $17 - 8 = 9$

