



たしざんと
ひきざん 6

くりはなんこ?
(きゅうしょう)

14

日にち： 月 日

名まえ _____

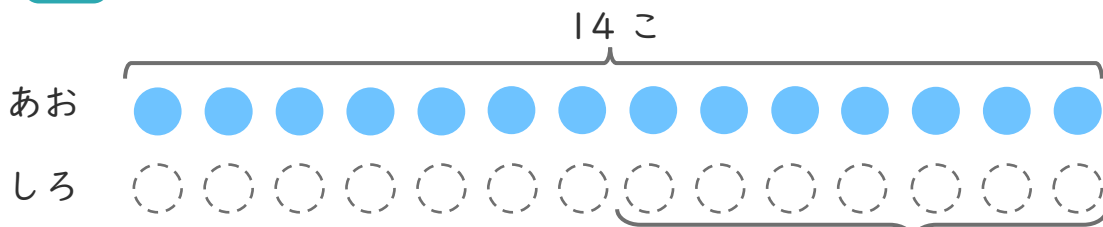
1

あおいたまが 14こ あります。

しろいたまは、あおいたまより 7こ すくないそうです。

① にあうかずをかきましょう。

にいろをぬりましょう。



こすくない

② しろいたまは なんこ ありますか。

しき：

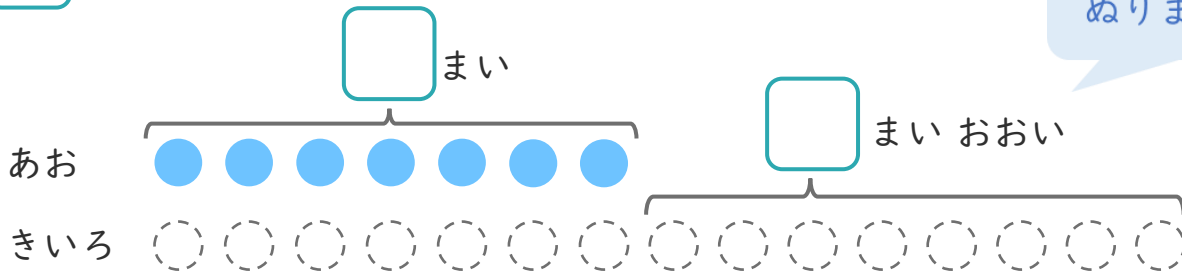
こたえ { _____ }

2

あおいかみを 7まい かいしました。きいろいかみは、あおいかみより 8まい おおく かいしました。

① にあうかずをかきましょう。

にいろをぬりましょう。



② きいろいかみは なんまい かいしましたか。

しき：

こたえ { _____ }





たしざんと
ひきざん 6

くりはなんこ?
(きゅうしょう)

14

日にち： 月 日

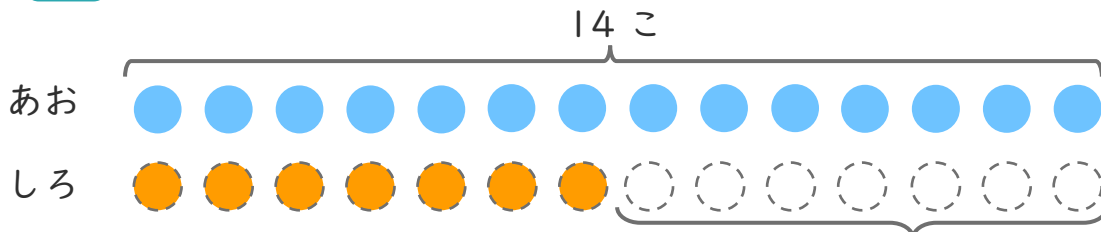
名まえ _____

1 あおいたまが 14こ あります。

しろいたまは、あおいたまより 7こ すくないそうです。

① にあうかずをかきましょう。

○にいろをぬりましょう。



7こ すくない

② しろいたまは なんこ ありますか。

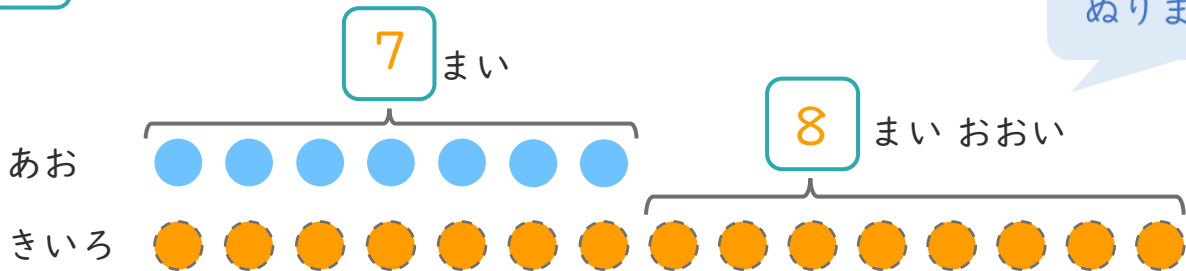
しき： $14 - 7 = 7$

こたえ { 7 こ }

2 あおいかみを 7まい かいました。きいろいかみは、あおいかみより 8まい おおく かいました。

① にあうかずをかきましょう。

○にいろをぬりましょう。



② きいろいかみは なんまい かいましたか。

しき： $7 + 8 = 15$

こたえ { 15 まい }

