



たしざんと
ひきざん 3

● ぜんぶでなんだい?
(にんずうとだいすう)

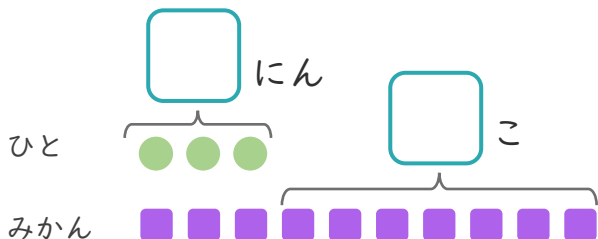
14

日にち： 月 日

名まえ _____

1 3にんにみかんを1こずつわけました。
みかんはあと7こあります。

① □にあうかずをかきましょう。



●と■をせんで
むすびましょう。

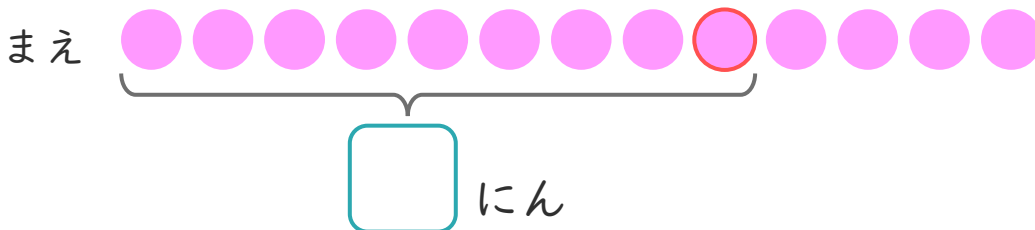
② みかんは、ぜんぶでなんこありますか。

しき：

こたえ {

2 おかしやさんに13にんならんでいます。
くみさんはまえから9ばんめにいます。

① □にあうかずをかきましょう。



② くみさんのうしろにはなんにんいますか。

しき：

こたえ {





たしざんと
ひきざん 3

● ぜんぶでなんだい?
(にんずうとだいすう)

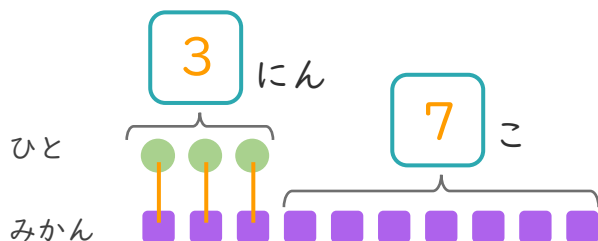
14

日にち： 月 日

名まえ _____

1 3にんにみかんを1こずつわけました。
みかんはあと7こあります。

① □にあうかずをかきましょう。



●と■をせんで
むすびましょう。

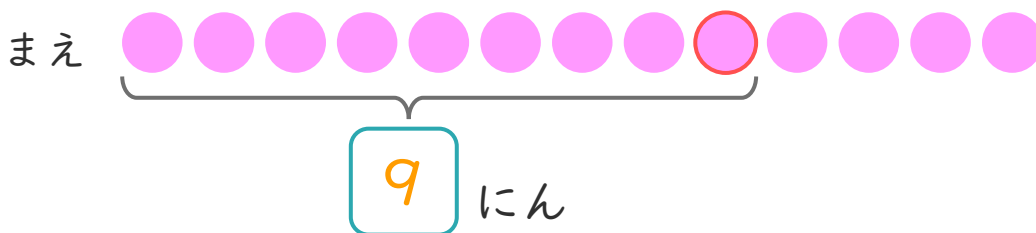
② みかんは、ぜんぶでなんこありますか。

しき： $3 + 7 = 10$

こたえ $\left(10 \text{ こ} \right)$

2 おかしやさんに13にんならんでいます。
くみさんはまえから9ばんめにいます。

① □にあうかずをかきましょう。



② くみさんのうしろにはなんにんいますか。

しき： $13 - 9 = 4$

こたえ $\left(4 \text{ にん} \right)$

