



たしざんと
ひきざん 7

● まえとうしろのにんずう
ぜんぶでなんにん？

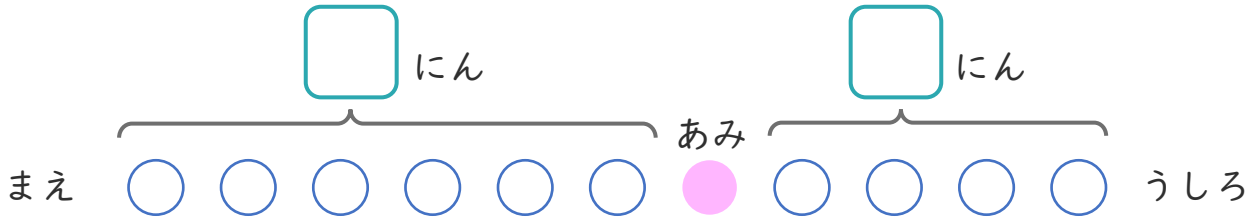
14

日にち： 月 日

名まえ _____

1 バスでいにひとがならんでいます。あみさんのまえに
6にん、うしろに4にんいます。

① にあうかずをかきましょう。



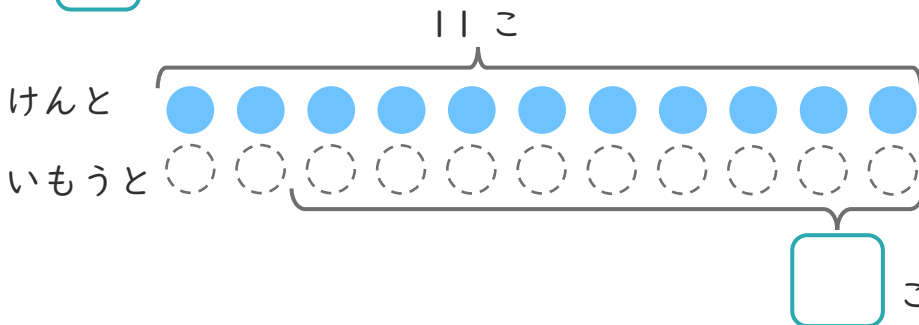
② ぜんぶでなんにんならんでいますか。

しき：

こたえ

2 けんさんはくりを11こひろいました。
いもうとは、けんさんより9こすくなかったそうです。

① にあうかずをかきましょう。



○にいろを
ぬりましょう。

こすくない

② いもうとは、なんこひろいましたか。

しき：

こたえ





たしざんと
ひきざん 7

● まえとうしろのにんずう
ぜんぶでなんにん？

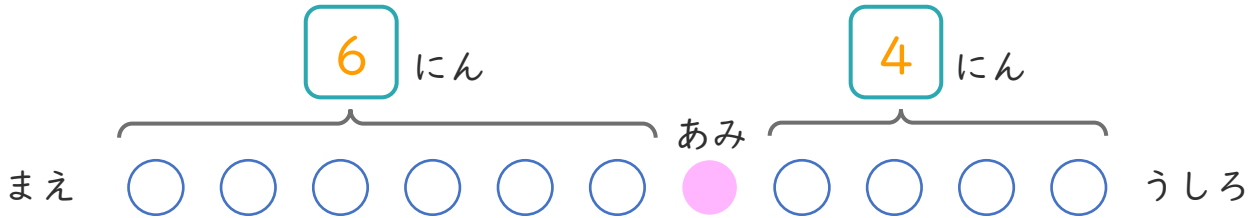
14

日にち： 月 日

名まえ _____

1 バスでいにひとがならんでいます。あみさんのまえに6にん、うしろに4にんいます。

① にあうかずをかきましょう。



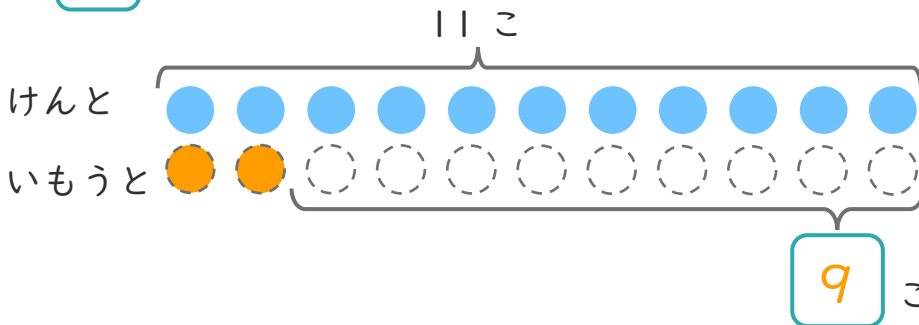
② ぜんぶでなんにんならんでいますか。

しき： $6 + 1 + 4 = 11$

こたえ $\left(11 \text{ にん} \right)$

2 けんさんはくりを11こひろいました。
いもうとは、けんさんより9こすくなくったそうです。

① にあうかずをかきましょう。



○にいろをぬりましょう。

② いもうとは、なんこひろいましたか。

しき： $11 - 9 = 2$

こたえ $\left(2 \text{ こ} \right)$

