



たしざんと  
ひきざん 6

● どんぐりはなんこ？  
(きゅうしょう)

14

日にち： 月 日

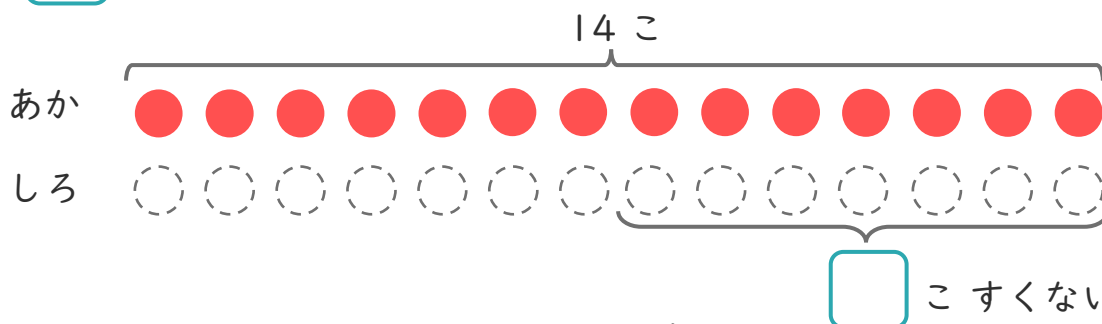
名まえ \_\_\_\_\_

1 あかいたまが 14こ あります。

しろいたまは、あかいたまより 7こ すくないそうです。

①  にあうかずをかきましょう。

○にいろをぬりましょう。



② しろいたまはなんこ ありますか。

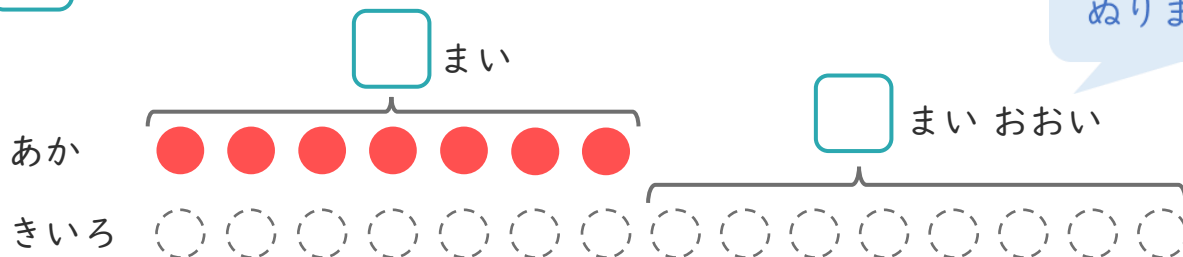
しき：

こたえ {

2 あかいかみを 7まい かいました。きいろいかみは、あかいかみより 8まい おおく かいました。

①  にあうかずをかきましょう。

○にいろをぬりましょう。



② きいろ かみは なんまい かいましたか。

しき：

こたえ {





たしざんと  
ひきざん 6

● どんぐりはなんこ？  
(きゅうしょう)

14

日にち： 月 日

名まえ \_\_\_\_\_

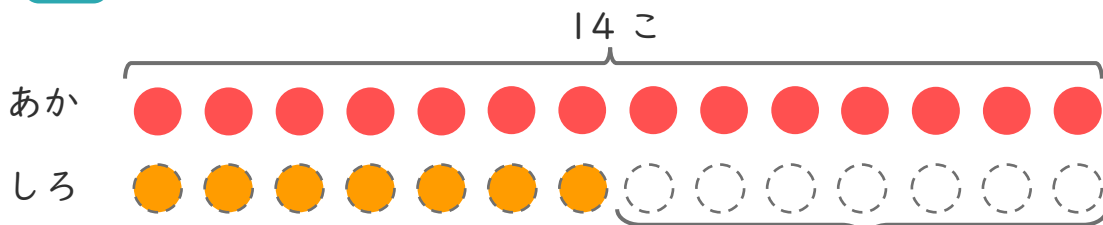
1

あかいたまが 14こ あります。

しろいたまは、あかいたまより 7こ すくないそうです。

① □ にあうかずをかきましょう。

○ にいろをぬりましょう。



7 こすくない

② しろいたまはなんこ ありますか。

しき： $14 - 7 = 7$

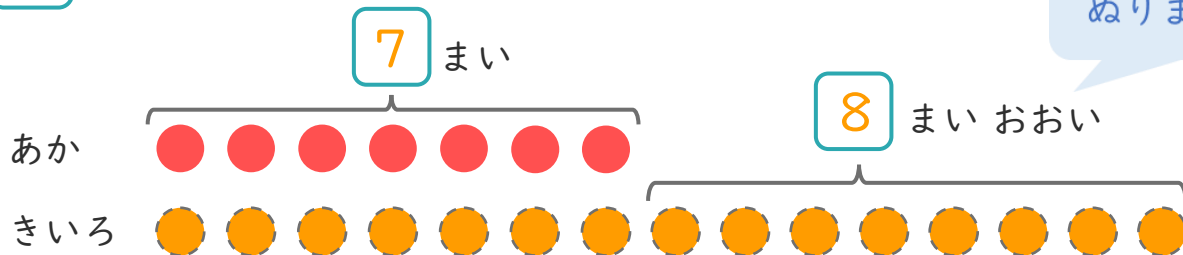
こたえ { 7 こ }

2

あかいかみを 7まい かいました。きいろいかみは、あかいかみより 8まい おおく かいました。

① □ にあうかずをかきましょう。

○ にいろをぬりましょう。



② きいろ かみはなんまい かいましたか。

しき： $7 + 8 = 15$

こたえ { 15 まい }

