



たしざんと  
ひきざん 5

● みかんのあめはなんこ?  
(きゅうだい)

14

日にち： 月 日

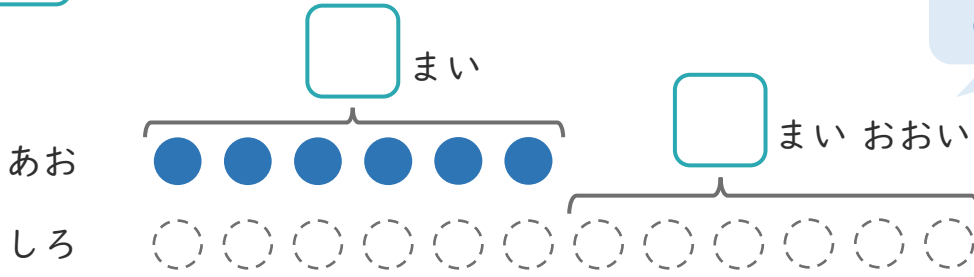
名まえ \_\_\_\_\_

1 あおい かみを 6まい かいしました。

しろい かみは、あおい かみより 6まい おおく かいしました。

① □ に あう かずを かきましよう。

○ に いろを  
ぬりましよう。



② しろい かみは なんまい かいしましたか。

しき：

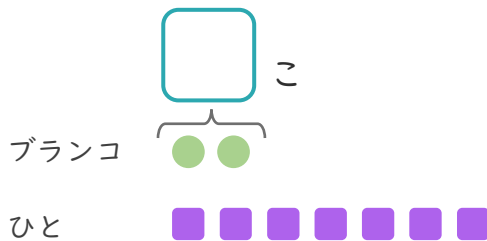
こたえ {

2 ブランコが 2こ あります。

7にんが きました。

① □ に あう かずを かきましよう。

● と ■ を せんで  
おすびましよう。



② ブランコにのれない ひとは なんにん ですか。

しき：

こたえ {



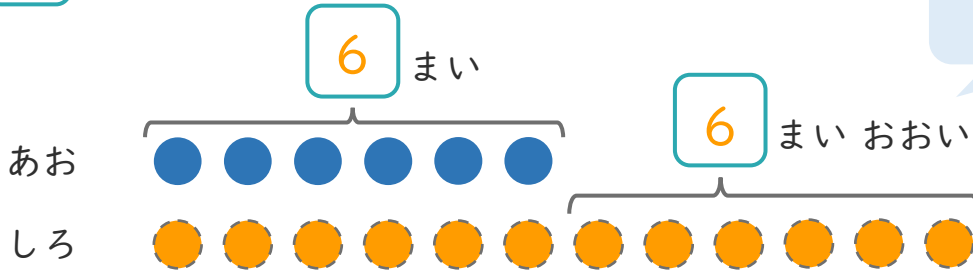


1 あおい かみを 6まい かいしました。

しろい かみは、あおい かみより 6まい おおく かいしました。

① □ に あう かず を かき まし ょう。

○ に いろ を  
ぬ り まし ょう。



② しろい かみは なんまい かい しました か。

しき： $6 + 6 = 12$

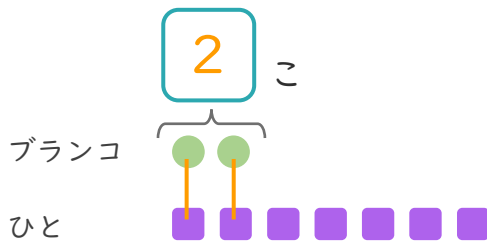
こたえ { 12 まい }

2 ブランコ が 2こ あります。

7にん が きま した。

① □ に あう かず を かき まし ょう。

● と ■ を せんで  
おすび まし ょう。



② ブランコ に のれ ない ひとは なんにん ですか。

しき： $7 - 2 = 5$

こたえ { 5 にん }

