



くりあがりのある
たしざん 8


● えとぶんしょうから
しきをつくろう

14


日にち： 月 日

名まえ _____

1 さかなは あわせて なんびき ですか。しきをかきましょう。




9 ひき




2 ひき

しき： + =

2 みかんは あわせて なんこ ですか。しきをかきましょう。



5 こ



8 こ

しき： + =



くりあがりのある
たしざん 8


● えとぶんしょうから
しきをつくろう

14


日にち： 月 日

名まえ _____

1 さかなは あわせて なんびき ですか。しきをかきましょう。




9 ひき




2 ひき

しき： $\boxed{9} + \boxed{2} = \boxed{11}$

2 みかんは あわせて なんこ ですか。しきをかきましょう。



5 こ



8 こ

しき： $\boxed{5} + \boxed{8} = \boxed{13}$